

Participant ID	
Participant Name	
Test Center Name	
Test Date	27/09/2023
Test Time	11:30 AM - 1:30 PM
Subject	Head Constable Combatant Ministerial



Section : General Arithmetic and reasoning

Q.1 सात आदमी A, B, C, D, E, F और G एक बेंच पर उत्तर की ओर मुख करके बैठे हैं। B, E और C के ठीक बीच में बैठता है। B, A के बायीं ओर से पाँचवें स्थान पर बैठता है। G, F के बायीं ओर से दूसरे स्थान पर बैठा है। D के ठीक बायीं ओर कौन बैठा है?

- Ans
- 1. A
 - 2. F
 - 3. C
 - 4. G

Q.2 जेनेलिया 200 m की दौड़ में 10 km/hr की गति से दौड़ती है, जिससे मैरी को 32 m की बढ़त मिलती है और वह उसे 12 सेकंड से हरा देती है। मैरी किस गति से दौड़ रही है?

- Ans
- 1. 6.2 km/hr
 - 2. 8.2 km/hr
 - 3. 7.2 km/hr
 - 4. 5.2 km/hr

Question ID : 630680391932
Option 1 ID : 6306801528103
Option 2 ID : 6306801528105
Option 3 ID : 6306801528104
Option 4 ID : 6306801528102
Status : Answered

Chosen Option : 2

Q.3 यदि A 'जोड़' को दर्शाता है, B 'गुणा' को दर्शाता है, C 'घटाव' को दर्शाता है, और D 'भाग' को दर्शाता है, तो निम्नलिखित समीकरण का मान क्या होगा?
12 D 4 A 11 B 3 C 32 = ?

- Ans
- 1. 4
 - 2. 11
 - 3. 9
 - 4. 17

Question ID : 630680391860

Option 1 ID : 6306801527816

Option 2 ID : 6306801527814

Option 3 ID : 6306801527815

Option 4 ID : 6306801527817

Status : Answered

Chosen Option : 1

Q.4 निम्नलिखित में से कौन सी संख्या दी गई श्रृंखला में प्रश्न चिह्न (?) को प्रतिस्थापित करेगी?
987, ?, 793, 696, 599, 502

- Ans
- 1. 805
 - 2. 890
 - 3. 882
 - 4. 838

Question ID : 630680391866

Option 1 ID : 6306801527841

Option 2 ID : 6306801527838

Option 3 ID : 6306801527839

Option 4 ID : 6306801527840

Status : Answered

Chosen Option : 2

Q.5 एक दुकानदार निम्नलिखित 2 योजनाएँ प्रदान करता है। किस योजना में अधिकतम छूट प्रतिशत है? और कितना?
(i) 5 खरीदें और 3 मुफ्त पाएं
(ii) 5 के लिए भुगतान करें और 6 प्राप्त करें

- Ans
- 1. योजना (i), 38.5%
 - 2. योजना (i), 37.5%
 - 3. योजना (ii), 38.5%
 - 4. योजना (ii), 37.5%

Question ID : 630680391911

Option 1 ID : 6306801528020

Option 2 ID : 6306801528018

Option 3 ID : 6306801528021

Option 4 ID : 6306801528019

Status : Answered

Chosen Option : 2

Q.6 11 पेपरों का औसत अंक 35 है। पहले 6 पेपरों के औसत अंक 30 है और अंतिम 6 पेपरों का औसत 42 है। 6ठे पेपर में प्राप्त अंक ज्ञात करें।

- Ans
- 1. 46
 - 2. 45
 - 3. 48
 - 4. 47

Question ID : 630680391903
Option 1 ID : 6306801527987
Option 2 ID : 6306801527986
Option 3 ID : 6306801527989
Option 4 ID : 6306801527988
Status : Answered
Chosen Option : 4

Q.7 उस विकल्प का चयन करें जो पाँचवें शब्द से उसी प्रकार से संबंधित है जिस प्रकार से चौथा शब्द तीसरे शब्द से संबंधित है और दूसरा शब्द पहले शब्द से संबंधित है।
सऊदी अरब : रियाद :: स्पेन : मैड्रिड :: थाईलैंड : ?

- Ans
- 1. कम्पाला
 - 2. बैंकाक
 - 3. स्टॉकहोम
 - 4. कोलॉंबो

Question ID : 630680391875
Option 1 ID : 6306801527876
Option 2 ID : 6306801527877
Option 3 ID : 6306801527875
Option 4 ID : 6306801527874
Status : Answered
Chosen Option : 3

Q.8 राम, अजय का भाई है जो शीता का पिता है। शीता की बहन मेघा है जिसकी माता निकिता है। निकिता, तरुण की बहू है जिसकी पत्नी पिंकी है। पिंकी, राम से कैसे संबंधित है?

- Ans
- 1. माता
 - 2. पत्नी
 - 3. बहन
 - 4. पुत्री

Question ID : 630680391875
Option 1 ID : 6306801527855
Option 2 ID : 6306801527854
Option 3 ID : 6306801527857
Option 4 ID : 6306801527856
Status : Answered
Chosen Option : 1

Q.9 वह सबसे बड़ी संख्या कौन सी है जो 639, 1065 और 1491 को पूर्णतः विभाजित करती है?

- Ans
- 1. 212
 - 2. 214
 - 3. 213
 - 4. 211

Question ID : 630680391919
Option 1 ID : 6306801528051
Option 2 ID : 6306801528053
Option 3 ID : 6306801528052
Option 4 ID : 6306801528050
Status : Answered
Chosen Option : 3

Q.10 चार अक्षर-समूह युग्म दिए गए हैं, जिनमें से तीन किसी निश्चित तरीके से समान हैं और एक भिन्न है। विषम अक्षर-समूह युग्म का चयन करें।

- Ans
- 1. WVU
 - 2. EDC
 - 3. ONP
 - 4. KJI

Question ID : 630680391881
Option 1 ID : 6306801527901
Option 2 ID : 6306801527898
Option 3 ID : 6306801527900
Option 4 ID : 6306801527899
Status : Answered
Chosen Option : 3

Q.11 एक ट्रक 65 km/hr की औसत गति से दिल्ली से केरल जाता है। यात्रा में 30 घंटे लगते हैं। यह उसी मार्ग से केरल से दिल्ली तक 45 km/hr की औसत गति से वापस आता है। जाने-आने की यात्रा के दौरान ट्रक की अनुमानित औसत गति क्या थी?

- Ans
- 1. 51 km/hr
 - 2. 52 km/hr
 - 3. 53 km/hr
 - 4. 50 km/hr

Question ID : 630680391905
Option 1 ID : 6306801527996
Option 2 ID : 6306801527995
Option 3 ID : 6306801527994
Option 4 ID : 6306801527997
Status : Answered
Chosen Option : 3

Q.12 निम्नलिखित में से कौन सी संख्या दी गई श्रृंखला में प्रश्न चिह्न (?) को प्रतिस्थापित करेगी?

6, 12, 12, 24, 18, ?

Ans 1. 36

2. 42

3. 24

4. 18

Question ID : 630680391861

Option 1 ID : 6306801527820

Option 2 ID : 6306801527821

Option 3 ID : 6306801527819

Option 4 ID : 6306801527818

Status : Answered

Chosen Option : 1

Q.13 पिकी, रश्मी, सीमा, टीना, विरा और विनीता केंद्र की ओर मुख करके एक वृत्त में बैठी हैं। विनीता सीमा के बायीं ओर से दूसरे स्थान पर बैठी है और टीना और विरा के बीच में है। सीमा, रश्मी या टीना की पड़ोसी नहीं है। पिकी के ठीक दायें ओर कौन बैठा है?

Ans 1. वीरा

2. टीना

3. विनीता

4. रश्मि

Question ID : 630680391888

Option 1 ID : 6306801527926

Option 2 ID : 6306801527928

Option 3 ID : 6306801527929

Option 4 ID : 6306801527927

Status : Answered

Chosen Option : 4

Q.14 मारिया तीन वर्ष के लिए 5000 रुपये उधार लेती है और हर वर्ष किश्तों में 2000 रुपये वापस करने का फैसला करती है। मारिया द्वारा प्रतिवर्ष भुगतान की जाने वाली साधारण ब्याज की दर क्या है?

Ans 1. 22.22%

2. 33.33%

3. 44.44%

4. 11.11%

Question ID : 630680391927

Option 1 ID : 6306801528083

Option 2 ID : 6306801528084

Option 3 ID : 6306801528085

Option 4 ID : 6306801528082

Status : Answered

Chosen Option : 4

Q.15 सरलीकृत करें: $(6.6 \div 1.1 \times 0 + 4.4)$

- Ans
- 1. 2.2
 - 2. 1.1
 - 3. 4.4
 - 4. 3.3

Question ID : 630680391917
Option 1 ID : 6306801528043
Option 2 ID : 6306801528042
Option 3 ID : 6306801528045
Option 4 ID : 6306801528044
Status : Answered
Chosen Option : 3

Q.16 उस विकल्प का चयन करें जो पॉचवें शब्द से उसी प्रकार से संबंधित है जिस प्रकार से चौथा शब्द तीसरे शब्द से संबंधित है और दूसरा शब्द पहले शब्द से संबंधित है।
आमेर किला: जयपुर:: लोटस मंदिर: नई दिल्ली:: सूर्य मंदिर:?

- Ans
- 1. मैसूर
 - 2. कोणार्क
 - 3. हैदराबाद
 - 4. उदयपुर

Question ID : 630680391877
Option 1 ID : 6306801527884
Option 2 ID : 6306801527883
Option 3 ID : 6306801527882
Option 4 ID : 6306801527885
Status : Answered
Chosen Option : 2

Q.17 चार शब्द युग्म दिए गए हैं, जिनमें से तीन किसी निश्चित तरीके से समान हैं और एक भिन्न है। विषम शब्द युग्म का चयन करें।

- Ans
- 1. उड़ीसा : बोहाग बिहू
 - 2. पश्चिम बंगाल: पोहेला बोइसाख
 - 3. पंजाब : बैसाखी
 - 4. आंध्र प्रदेश : उगाड़ी

Question ID : 630680391885
Option 1 ID : 6306801527914
Option 2 ID : 6306801527915
Option 3 ID : 6306801527916
Option 4 ID : 6306801527917
Status : Answered
Chosen Option : 1

Q.18 यदि ब्याज अर्ध-वार्षिक रूप से चक्रवृद्धि किया जाता है, तो 18000 रुपये की राशि पर 18 महीने के लिए प्रति वर्ष 30% की दर से चक्रवृद्धि ब्याज ज्ञात करें।

- Ans
- 1. 9400.75 रुपये
 - 2. 9475.75 रुपये
 - 3. 9375.75 रुपये
 - 4. 9300.75 रुपये

Question ID : 630680391908
Option 1 ID : 6306801528009
Option 2 ID : 6306801528008
Option 3 ID : 6306801528007
Option 4 ID : 6306801528006
Status : Answered
Chosen Option : 3

Q.19 एक वस्तु को 500 रुपये अधिक में बेचने पर, जैक को उसकी बिक्री पर 12% हानि के बजाय 10% लाभ होगा। इसकी लागत क्या थी?

- Ans
- 1. 2282.73 रुपये
 - 2. 2372.73 रुपये
 - 3. 2272.73 रुपये
 - 4. 2382.73 रुपये

Question ID : 630680391922
Option 1 ID : 6306801528063
Option 2 ID : 6306801528064
Option 3 ID : 6306801528062
Option 4 ID : 6306801528065
Status : Answered
Chosen Option : 2

Q.20 यदि X, 'गुणा' को दर्शाता है, Y, 'जोड़' को दर्शाता है, Z, 'भाग' को दर्शाता है, और W, 'घटाव' को दर्शाता है, तो निम्नलिखित समीकरण का मान क्या होगा?
 $8 X 3 Z 4 Y 9 W 5 = ?$

- Ans
- 1. 5
 - 2. 10
 - 3. 20
 - 4. 15

Question ID : 630680391854
Option 1 ID : 6306801527791
Option 2 ID : 6306801527792
Option 3 ID : 6306801527793
Option 4 ID : 6306801527790
Status : Answered
Chosen Option : 2

Q.21 निम्नलिखित अभिव्यक्ति का मान ज्ञात करें: $\{(169 \div 13)^2 + (18 \div 9 + 5^2)\}$

- Ans
- 1. 186
 - 2. 196
 - 3. 166
 - 4. 176

Question ID : 630680391913
Option 1 ID : 6306801528028
Option 2 ID : 6306801528029
Option 3 ID : 6306801528026
Option 4 ID : 6306801528027
Status : Answered
Chosen Option : 4

Q.22 A, B और C ने एक व्यवसाय शुरू किया, प्रत्येक ने 5000 रुपये का निवेश किया। 4 महीने के बाद A ने 2000 रुपये निकाल लिए, B ने 3000 रुपये निकाल लिए और C ने 2000 रुपये और निवेश कर दिए। वर्ष के अंत में कुल 20000 रुपये का लाभ अर्जित हुआ। इस लाभ में C का हिस्सा ज्ञात करें।

- Ans
- 1. 8743.59 रुपये
 - 2. 9843.59 रुपये
 - 3. 9743.59 रुपये
 - 4. 8843.59 रुपये

Question ID : 630680391924
Option 1 ID : 6306801528073
Option 2 ID : 6306801528070
Option 3 ID : 6306801528071
Option 4 ID : 6306801528072
Status : Answered
Chosen Option : 3

Q.23 17956 का वर्गमूल ज्ञात करें।

- Ans
- 1. 136
 - 2. 137
 - 3. 134
 - 4. 135

Question ID : 630680391915
Option 1 ID : 6306801528036
Option 2 ID : 6306801528037
Option 3 ID : 6306801528034
Option 4 ID : 6306801528035
Status : Answered
Chosen Option : 3

Q.24 निम्नलिखित में से कौन सा अक्षर-संख्या समूह दी गई श्रृंखला में प्रश्न चिह्न (?) को प्रतिस्थापित करेगा?
IQ26, KS30, MU34, ?, QY42, SA20

- Ans
- 1. NO28
 - 2. OW38
 - 3. OX40
 - 4. OR38

Question ID : 630680391895
Option 1 ID : 6306801527954
Option 2 ID : 6306801527955
Option 3 ID : 6306801527957
Option 4 ID : 6306801527956
Status : Answered
Chosen Option : 2

Q.25 100 रुपये के एक दर्जन केले 10% की छूट पर उपलब्ध हैं। जात करें कि 30 रुपये में कितने केले खरीदे जा सकते हैं?

- Ans
- 1. 2 केले
 - 2. 3 केले
 - 3. 4 केले
 - 4. 1 केला

Question ID : 630680391909
Option 1 ID : 6306801528011
Option 2 ID : 6306801528012
Option 3 ID : 6306801528013
Option 4 ID : 6306801528010
Status : Answered
Chosen Option : 2

Q.26 एक निश्चित कार्य करने के लिए, A और B वैकल्पिक दिनों में कार्य करते हैं, B पहले दिन कार्य शुरू करता है। A अकेले 16 दिनों में कार्य पूरा कर सकता है। यदि कार्य 12 दिनों में पूरा हो जाता है, तो B अकेले उसी कार्य का 5 गुना कितने दिनों में पूरा कर सकता है?

- Ans
- 1. 48 दिन
 - 2. 32 दिन
 - 3. 40 दिन
 - 4. 24 दिन

Question ID : 630680391929
Option 1 ID : 6306801528093
Option 2 ID : 6306801528091
Option 3 ID : 6306801528092
Option 4 ID : 6306801528090
Status : Answered
Chosen Option : 1

Q.27 यदि प्रत्येक अक्षर-समूह के भीतर सभी अक्षरों को वर्णानुक्रम में व्यवस्थित किया जाए, तो इस प्रकार बने कितने अक्षर-समूह एक स्वर के साथ समास होंगे?
REFER LONG FRIEND TIRED LOUD

- Ans 1. 2
 2. 4
 3. 1
 4. 3

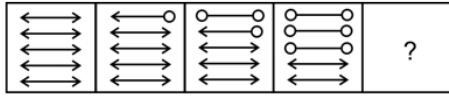
Question ID : 630680391868
Option 1 ID : 6306801527848
Option 2 ID : 6306801527849
Option 3 ID : 6306801527847
Option 4 ID : 6306801527846
Status : Answered
Chosen Option : 1

Q.28 5 और 25 के औसत अनुपात और तीसरे अनुपात का गुणनफल क्या है?

- Ans 1. $25\sqrt{5}$
 2. $125\sqrt{5}$
 3. $625\sqrt{5}$
 4. $5\sqrt{5}$

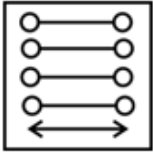
Question ID : 630680391926
Option 1 ID : 6306801528079
Option 2 ID : 6306801528080
Option 3 ID : 6306801528081
Option 4 ID : 6306801528078
Status : Answered
Chosen Option : 2

Q.29 उस आकृति का चयन करें जो निम्नलिखित आकृति श्रृंखला में प्रश्न चिह्न (?) को प्रतिस्थापित करेगी।

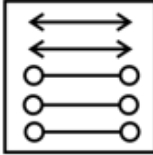


Ans

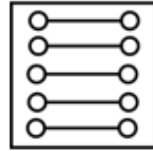
✗ 1.



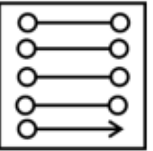
✗ 2.



✓ 3.



✗ 4.



Question ID : 630680391901

Option 1 ID : 6306801527979

Option 2 ID : 6306801527978

Option 3 ID : 6306801527980

Option 4 ID : 6306801527981

Status : Answered

Chosen Option : 3

Q.30 तीन कथन दिए गए हैं जिनके बाद दो निष्कर्ष क्रमांकित I और II दिए गए हैं। कथनों को सत्य मानते हुए, भले ही वे सामान्यतः ज्ञात तथ्यों से भिन्न प्रतीत होते हों, तय करें कि कौन सा निष्कर्ष तार्किक रूप से कथनों में से अनुसरण करता (करते) है।
कथन:
कथन I: कुछ बिल्लियाँ कुत्ते हैं।
कथन II: कुछ कुत्ते चींटियाँ नहीं हैं।
कथन III: कुछ चींटियाँ चमगादड़ हैं।
निष्कर्ष:
निष्कर्ष I: कुछ चींटियाँ कुत्ते हैं।
निष्कर्ष II: कुछ बिल्लियाँ चमगादड़ हैं।

- Ans**
- ✓ 1. न तो निष्कर्ष I और न ही II अनुसरण करता है
 - ✗ 2. निष्कर्ष I और II दोनों अनुसरण करते हैं
 - ✗ 3. केवल निष्कर्ष II अनुसरण करता है
 - ✗ 4. केवल निष्कर्ष I अनुसरण करता है

Question ID : 630680391897

Option 1 ID : 6306801527965

Option 2 ID : 6306801527964

Option 3 ID : 6306801527963

Option 4 ID : 6306801527962

Status : Answered

Chosen Option : 4

Section : General Knowledge

Q.1 पैसे के कार्यों के संबंध में निम्नलिखित कथनों को पढ़ें।
A. पैसा विनिमय के माध्यम के रूप में कार्य करता है।
B. पैसा सुविधाजनक लेखा इकाई के रूप में भी कार्य करता है। गलत कथन/कथनों की पहचान करें।

- Ans**
- ✗ 1. केवल A
 - ✗ 2. न तो A और न ही B
 - ✗ 3. केवल B
 - ✓ 4. A और B दोनों

Question ID : 630680391556

Option 1 ID : 6306801526614

Option 2 ID : 6306801526617

Option 3 ID : 6306801526615

Option 4 ID : 6306801526616

Status : Answered

Chosen Option : 2

Q.2 निम्नलिखित में से कौन सी तापी नदी की सहायक नदी नहीं है?

- Ans
- 1. पूर्णा
 - 2. गिरना
 - 3. रावी
 - 4. बोड़ी

Question ID : 630680391562
Option 1 ID : 6306801526638
Option 2 ID : 6306801526639
Option 3 ID : 6306801526640
Option 4 ID : 6306801526641
Status : Answered
Chosen Option : 2

Q.3 निम्नलिखित में से किसे मुक्केबाज़ी में उत्कृष्ट प्रदर्शन के लिए अर्जुन पुरस्कार 2022 से सम्मानित किया गया?

- Ans
- 1. दीप ग्रेस एक्का
 - 2. निकहत ज़रीन
 - 3. आर प्रगनानंद
 - 4. भक्ति प्रदीप कुलकर्णी

Question ID : 630680391530
Option 1 ID : 6306801526513
Option 2 ID : 6306801526511
Option 3 ID : 6306801526512
Option 4 ID : 6306801526510
Status : Answered
Chosen Option : 2

Q.4 विज्ञान और प्रौद्योगिकी मंत्रालय ने निम्नलिखित में से किसके विकास के लिए पॉलिमर के पदानुक्रमित दोहरे नेटवर्क का उपयोग करके तरल क्रिस्टल को सीमित करने के लिए एक अभूतपूर्व तकनीक का अनावरण किया है?

- Ans
- 1. बाइक
 - 2. कारें
 - 3. दरवाजे
 - 4. विंडोज

Question ID : 630680391520
Option 1 ID : 6306801526472
Option 2 ID : 6306801526471
Option 3 ID : 6306801526473
Option 4 ID : 6306801526470
Status : Answered
Chosen Option : 4

Q.5 अपनी दुर्भावनापूर्ण गतिविधियों के कारण सुर्खियाँ बटोरने वाले खतरनाक इंटरनेट रैनसमवेयर वायरस का नाम निम्नलिखित में से कौन सा है?

- Ans 1. अकीरा
 2. सोना
 3. एप्सन
 4. कार्गो

Question ID : 630680391517
Option 1 ID : 6306801526459
Option 2 ID : 6306801526460
Option 3 ID : 6306801526461
Option 4 ID : 6306801526458
Status : Answered
Chosen Option : 3

Q.6 भारत में कितने प्रकार के जैव-भंडार मौजूद हैं?

- Ans 1. 2
 2. 12
 3. 8
 4. 18

Question ID : 630680391559
Option 1 ID : 6306801526626
Option 2 ID : 6306801526628
Option 3 ID : 6306801526627
Option 4 ID : 6306801526629
Status : Answered
Chosen Option : 2

Q.7 फूल का निम्नलिखित में से कौन सा भाग पौधों में परागण को उत्तेजित करता है?

- Ans 1. अंडप
 2. पंखुड़ियों
 3. बाह्यदल
 4. पुष्प-केसर

Question ID : 630680391551
Option 1 ID : 6306801526597
Option 2 ID : 6306801526595
Option 3 ID : 6306801526594
Option 4 ID : 6306801526596
Status : Answered
Chosen Option : 3

Q.8 निम्नलिखित में से कौन सा त्योहार सिखों द्वारा नहीं मनाया जाता है?

- Ans 1. गुरपुरब
 2. माघी
 3. लोहड़ी
 4. पर्युषण पर्व

Question ID : 630680391538
Option 1 ID : 6306801526542
Option 2 ID : 6306801526543
Option 3 ID : 6306801526544
Option 4 ID : 6306801526545
Status : Answered
Chosen Option : 4

Q.9 निम्नलिखित में से किस संस्थान के शोधकर्ताओं ने ओस्टियो एचआरनेट नाम का AI-आधारित ढाँचा विकसित किया है?

- Ans 1. IIT बॉम्बे
 2. IIT गुवाहाटी
 3. IIT खड़गपुर
 4. IIT दिल्ली

Question ID : 630680391521
Option 1 ID : 6306801526475
Option 2 ID : 6306801526476
Option 3 ID : 6306801526477
Option 4 ID : 6306801526474
Status : Answered
Chosen Option : 1

Q.10 आधुनिक भारत के निम्नलिखित नेताओं में से किस नेता ने अहमदिया आंदोलन की स्थापना की?

- Ans 1. सैयद अहमद
 2. सैयद अहमद राय बरेलवी
 3. सैयद अहमद खान
 4. मिर्जा गुलाम अहमद

Question ID : 630680391574
Option 1 ID : 6306801526687
Option 2 ID : 6306801526689
Option 3 ID : 6306801526688
Option 4 ID : 6306801526686
Status : Answered
Chosen Option : 3

Q.11 लोदी राजवंश भारत में किस वर्ष तक सत्ता में रहा?

- Ans 1. 1526 AD
 2. 200 BC
 3. 1206 AD
 4. 1800 AD

Question ID : 630680391569
Option 1 ID : 6306801526667
Option 2 ID : 6306801526669
Option 3 ID : 6306801526666
Option 4 ID : 6306801526668
Status : Answered
Chosen Option : 1

Q.12 भारतीय संविधान की विशेषताओं के संबंध में निम्नलिखित कथनों को पढ़ें।

- A. भारतीय संविधान को आज तक दुनिया का सबसे लंबा और सबसे व्यापक संविधान होने का खिताब प्राप्त है।
B. भारतीय संविधान के अधिकांश प्रावधान अन्य देशों के संविधानों के साथ-साथ 1935 के भारत सरकार अधिनियम से लिए गए थे। सही कथन/कथनों की पहचान करें।

- Ans 1. न तो A और न ही B
 2. केवल B
 3. केवल A
 4. A और B दोनों

Question ID : 630680391577
Option 1 ID : 6306801526701
Option 2 ID : 6306801526699
Option 3 ID : 6306801526698
Option 4 ID : 6306801526700
Status : Answered
Chosen Option : 4

Q.13 निम्नलिखित में से कौन सा ट्रांसपेरेंसी इंटरनेशनल द्वारा शुरू किए गए भ्रष्टाचार धारणा सूचकांक में भारत का स्थान है?

- Ans 1. 85
 2. 20
 3. 22
 4. 16

Question ID : 630680391524
Option 1 ID : 6306801526488
Option 2 ID : 6306801526489
Option 3 ID : 6306801526487
Option 4 ID : 6306801526486
Status : Answered
Chosen Option : 3

Q.14 उपयोगिता के संबंध में निम्नलिखित कथनों को पढ़ें।

- A. एक उपभोक्ता आमतौर पर किसी वस्तु के लिए अपनी माँग उपयोगिता (या संतुष्टि) के आधार पर तय करता है जो उसे उससे प्राप्त होती है।
B. किसी वस्तु की उपयोगिता उसकी आवश्यकता-संतुष्टि करने की क्षमता है।
सही कथन/कथनों की पहचान करें।

- Ans 1. केवल A
 2. A और B दोनों
 3. केवल B
 4. न तो A और न ही B

Question ID : 630680391552
Option 1 ID : 6306801526598
Option 2 ID : 6306801526600
Option 3 ID : 6306801526599
Option 4 ID : 6306801526601
Status : Answered
Chosen Option : 2

Q.15 आधुनिक भारत के निम्नलिखित प्रमुख व्यक्तित्वों में से किसको लोकहितवादी के नाम से भी जाना जाता था?

- Ans 1. रवीन्द्र नाथ टैगोर
 2. मूलशंकर
 3. रामकृष्ण परमहंस
 4. गोपाल हरि देशमुख

Question ID : 630680391573
Option 1 ID : 6306801526685
Option 2 ID : 6306801526684
Option 3 ID : 6306801526682
Option 4 ID : 6306801526683
Status : Answered
Chosen Option : 2

Q.16 निम्नलिखित में से किस राज्य के मुख्यमंत्री ने नंद बाबा दूध मिशन शुरू किया है?

- Ans 1. बिहार
 2. झारखंड
 3. उत्तर प्रदेश
 4. मध्य प्रदेश

Question ID : 630680391527
Option 1 ID : 6306801526499
Option 2 ID : 6306801526501
Option 3 ID : 6306801526500
Option 4 ID : 6306801526498
Status : Answered
Chosen Option : 2

Q.17 निम्नलिखित में से कौन सी भारत की दूसरी सबसे अधिक बोली जाने वाली भाषा है?

- Ans
- 1. मराठी
 - 2. गुजराती
 - 3. बंगाली
 - 4. तामिल

Question ID : 630680391545
Option 1 ID : 6306801526572
Option 2 ID : 6306801526573
Option 3 ID : 6306801526571
Option 4 ID : 6306801526570
Status : Answered
Chosen Option : 4

Q.18 एकीकृत पर्वतीय विकास के लिए अंतराष्ट्रीय केंद्र (ICIMOD) ने इस बात पर प्रकाश डाला है कि भारत के एक पहाड़ में हिमनद द्रव्यमान का तेजी से नुकसान हो रहा है। निम्नलिखित में से कौन सा पर्वत इस हानि का अनुभव कर रहा है?

- Ans
- 1. हिंदू कुश हिमालय
 - 2. गॉडविन ऑस्टिन
 - 3. बरेल पर्वतमाला
 - 4. अनामुडी

Question ID : 630680391512
Option 1 ID : 6306801526440
Option 2 ID : 6306801526438
Option 3 ID : 6306801526439
Option 4 ID : 6306801526441
Status : Answered
Chosen Option : 2

Q.19 निम्नलिखित में से कौन सा भारत का सबसे छोटा शहर है?

- Ans
- 1. गाज़ियाबाद
 - 2. चेन्नई
 - 3. मुंबई
 - 4. कोलकाता

Question ID : 630680391564
Option 1 ID : 6306801526647
Option 2 ID : 6306801526649
Option 3 ID : 6306801526646
Option 4 ID : 6306801526648
Status : Answered
Chosen Option : 3

Q.20 भारत के निम्नलिखित में से किसने ISSF विश्व शूटिंग चैम्पियनशिप में स्वर्ण पदक जीता?

- Ans
- 1. मनु भाकर
 - 2. अभिनव बिंद्रा
 - 3. सौरभ चौधरी
 - 4. रुद्राक्ष पाटिल

Question ID : 630680391533

Option 1 ID : 6306801526524

Option 2 ID : 6306801526523

Option 3 ID : 6306801526525

Option 4 ID : 6306801526522

Status : Answered

Chosen Option : 4

Q.21 1901 में राष्ट्रव्यापी आंकड़ा शुरू होने के बाद से आंकड़ों में सबसे गर्म जगह होने के मामले में भारत का स्थान निम्नलिखित में से कौन सा है?

- Ans
- 1. पहला
 - 2. चौथा
 - 3. पाँचवां
 - 4. तीसरा

Question ID : 630680391515

Option 1 ID : 6306801526450

Option 2 ID : 6306801526452

Option 3 ID : 6306801526453

Option 4 ID : 6306801526451

Status : Answered

Chosen Option : 2

Q.22 निम्नलिखित में से क्या खाद्य विज्ञान द्वारा नहीं दिया गया है?

- Ans
- 1. डिब्बाबंद भोजन
 - 2. नाश्ता
 - 3. फ्रोज़ेन भोजन
 - 4. सब्ज़ियाँ

Question ID : 630680391548

Option 1 ID : 6306801526583

Option 2 ID : 6306801526582

Option 3 ID : 6306801526584

Option 4 ID : 6306801526585

Status : Answered

Chosen Option : 3

Q.23 निम्नलिखित में से कौन मंत्रों और गीतों का वेद है?

- Ans 1. यजुर वेद
 2. साम वेद
 3. ऋग्वेद
 4. अथर्ववेद

Question ID : 630680391536
Option 1 ID : 6306801526535
Option 2 ID : 6306801526536
Option 3 ID : 6306801526534
Option 4 ID : 6306801526537
Status : Answered
Chosen Option : 2

Q.24 गणतंत्र दिवस और स्वतंत्रता दिवस के अलावा, निम्नलिखित में से कौन सा भारत का राष्ट्रीय त्योहार भी है?

- Ans 1. शिक्षक दिवस
 2. गांधी जयंती
 3. संविधान दिवस
 4. बाल दिवस

Question ID : 630680391542
Option 1 ID : 6306801526559
Option 2 ID : 6306801526558
Option 3 ID : 6306801526561
Option 4 ID : 6306801526560
Status : Answered
Chosen Option : 2

Q.25 भारत में निम्नलिखित में से किस राज्य में लिंगानुपात सबसे अधिक है?

- Ans 1. मध्य प्रदेश
 2. आंध्र प्रदेश
 3. राजस्थान
 4. केरल

Question ID : 630680391567
Option 1 ID : 6306801526658
Option 2 ID : 6306801526661
Option 3 ID : 6306801526659
Option 4 ID : 6306801526660
Status : Answered
Chosen Option : 4

Section : General English

Q.1 Select the word that is similar in meaning (SYNONYM) to the word given below.
solicitous

- Ans 1. agitated
 2. heedless
 3. attentive
 4. unafraid

Question ID : 630680391828
Option 1 ID : 6306801527694
Option 2 ID : 6306801527697
Option 3 ID : 6306801527695
Option 4 ID : 6306801527696
Status : Answered
Chosen Option : 3

Q.2 The sentence below has been divided into three parts. Select the part of the sentence that has an error. If the sentence has no error, select the option 'No Error'.
And no sooner had his/ bulk padded the stone beneath/ that Ted came, plunk!

- Ans 1. No Error
 2. that Ted came, plunk!
 3. bulk padded the stone beneath
 4. And no sooner had his

Question ID : 630680391835
Option 1 ID : 6306801527725
Option 2 ID : 6306801527724
Option 3 ID : 6306801527723
Option 4 ID : 6306801527722
Status : Answered
Chosen Option : 3

Comprehension:

Select the missing sentence that would logically follow the paragraph:

Everest, also known as Sagarmatha in Nepal and Chomolungma in Tibet, is the (1)_____ mountain in the world. With a peak reaching an estimated 8,848 meters (29,029 feet) above sea level, it is a symbol of human (2)_____ and determination. Thousands of climbers attempt to reach its (3)_____ every year, but the journey is perilous and only a (4)_____ make it to the top.

SubQuestion No : 3

Q.3 Select the most appropriate option to fill in the blank (3) in the passage.

- Ans 1. Counter
 2. Camp
 3. Base
 4. Summit

Question ID : 630680391800
Option 1 ID : 6306801527589
Option 2 ID : 6306801527587
Option 3 ID : 6306801527588
Option 4 ID : 6306801527586
Status : Answered
Chosen Option : 3

Comprehension:

Select the missing sentence that would logically follow the paragraph:

Everest, also known as Sagarmatha in Nepal and Chomolungma in Tibet, is the (1)_____ mountain in the world. With a peak reaching an estimated 8,848 meters (29,029 feet) above sea level, it is a symbol of human (2)_____ and determination. Thousands of climbers attempt to reach its (3)_____ every year, but the journey is perilous and only a (4)_____ make it to the top.

SubQuestion No : 4

Q.4 Select the most appropriate option to fill in the blank (2) in the passage.

Ans ✓ 1. Achievement

✗ 2. Humility

✗ 3. Isolation

✗ 4. Curiosity

Question ID : 630680391799

Option 1 ID : 6306801527583

Option 2 ID : 6306801527584

Option 3 ID : 6306801527585

Option 4 ID : 6306801527582

Status : Answered

Chosen Option : 1

Comprehension:

Select the missing sentence that would logically follow the paragraph:

Everest, also known as Sagarmatha in Nepal and Chomolungma in Tibet, is the (1)_____ mountain in the world. With a peak reaching an estimated 8,848 meters (29,029 feet) above sea level, it is a symbol of human (2)_____ and determination. Thousands of climbers attempt to reach its (3)_____ every year, but the journey is perilous and only a (4)_____ make it to the top.

SubQuestion No : 5

Q.5 Select the most appropriate option to fill in the blank (1) in the passage.

Ans ✗ 1. Heaviest

✗ 2. Shortest

✗ 3. Oldest

✓ 4. Tallest

Question ID : 630680391798

Option 1 ID : 6306801527581

Option 2 ID : 6306801527579

Option 3 ID : 6306801527580

Option 4 ID : 6306801527578

Status : Answered

Chosen Option : 2

Comprehension:

Select the missing sentence that would logically follow the paragraph:

Everest, also known as Sagarmatha in Nepal and Chomolungma in Tibet, is the (1)_____ mountain in the world. With a peak reaching an estimated 8,848 meters (29,029 feet) above sea level, it is a symbol of human (2)_____ and determination. Thousands of climbers attempt to reach its (3)_____ every year, but the journey is perilous and only a (4)_____ make it to the top.

SubQuestion No : 6

Q.6 Select the most appropriate option to fill in the blank (4) in the passage.

- Ans 1. Few
 2. Everybody
 3. Majority
 4. Nobody

Question ID : 630680391801
Option 1 ID : 6306801527590
Option 2 ID : 6306801527592
Option 3 ID : 6306801527591
Option 4 ID : 6306801527593
Status : Answered
Chosen Option : 1

Comprehension:

Read the passage carefully and choose the best answer to each question out of the four alternatives:

Mahatma Gandhi, an iconic figure in India's history, was a visionary leader and a staunch advocate of nonviolent civil disobedience. Born in 1869, he played a pivotal role in India's struggle for independence from British rule. His philosophy of Satyagraha, or truth force, inspired millions to join the freedom movement.

Gandhi's methods of peaceful protest and passive resistance, coupled with his unwavering commitment to justice and equality, earned him the title of "Mahatma," meaning great soul. He led various campaigns against unjust laws, including the famous Salt March in 1930, which drew global attention to India's plight.

Beyond his political pursuits, Gandhi emphasized the importance of self-reliance and simplicity, advocating for rural development and communal harmony. His legacy extends far beyond India's borders, as he remains an inspiration to civil rights leaders and social activists worldwide.

Sadly, this great soul's life was tragically cut short when he was assassinated in 1948. However, his teachings and principles continue to guide generations, reminding us of the power of peace, love, and perseverance in the face of adversity. Mahatma Gandhi's influence endures as a beacon of hope for a better world.

SubQuestion No : 7

Q.7 What title would best suit the passage's content?

- Ans 1. The Influence of Mahatma Gandhi
 2. Gandhi's Nonviolent Revolution
 3. The Power of Civil Disobedience
 4. India's Struggle for Independence

Question ID : 630680391842
Option 1 ID : 6306801527748
Option 2 ID : 6306801527747
Option 3 ID : 6306801527749
Option 4 ID : 6306801527746
Status : Answered
Chosen Option : 2

Comprehension:

Read the passage carefully and choose the best answer to each question out of the four alternatives:

Mahatma Gandhi, an iconic figure in India's history, was a visionary leader and a staunch advocate of nonviolent civil disobedience. Born in 1869, he played a pivotal role in India's struggle for independence from British rule. His philosophy of Satyagraha, or truth force, inspired millions to join the freedom movement.

Gandhi's methods of peaceful protest and passive resistance, coupled with his unwavering commitment to justice and equality, earned him the title of "Mahatma," meaning great soul. He led various campaigns against unjust laws, including the famous Salt March in 1930, which drew global attention to India's plight.

Beyond his political pursuits, Gandhi emphasized the importance of self-reliance and simplicity, advocating for rural development and communal harmony. His legacy extends far beyond India's borders, as he remains an inspiration to civil rights leaders and social activists worldwide.

Sadly, this great soul's life was tragically cut short when he was assassinated in 1948. However, his teachings and principles continue to guide generations, reminding us of the power of peace, love, and perseverance in the face of adversity. Mahatma Gandhi's influence endures as a beacon of hope for a better world.

SubQuestion No : 8

Q.8 What inference can be drawn about Mahatma Gandhi's commitment to nonviolence?

- Ans** 1. He used nonviolent civil disobedience to challenge unjust laws.
2. He advocated for violent protests to achieve independence.
3. He was indifferent to the suffering of the Indian people.
4. He believed in armed rebellion against British rule.

Question ID : 630680391845

Option 1 ID : 6306801527760

Option 2 ID : 6306801527758

Option 3 ID : 6306801527759

Option 4 ID : 6306801527761

Status : Answered

Chosen Option : 1

Comprehension:

Read the passage carefully and choose the best answer to each question out of the four alternatives:

Mahatma Gandhi, an iconic figure in India's history, was a visionary leader and a staunch advocate of nonviolent civil disobedience. Born in 1869, he played a pivotal role in India's struggle for independence from British rule. His philosophy of Satyagraha, or truth force, inspired millions to join the freedom movement.

Gandhi's methods of peaceful protest and passive resistance, coupled with his unwavering commitment to justice and equality, earned him the title of "Mahatma," meaning great soul. He led various campaigns against unjust laws, including the famous Salt March in 1930, which drew global attention to India's plight.

Beyond his political pursuits, Gandhi emphasized the importance of self-reliance and simplicity, advocating for rural development and communal harmony. His legacy extends far beyond India's borders, as he remains an inspiration to civil rights leaders and social activists worldwide.

Sadly, this great soul's life was tragically cut short when he was assassinated in 1948. However, his teachings and principles continue to guide generations, reminding us of the power of peace, love, and perseverance in the face of adversity. Mahatma Gandhi's influence endures as a beacon of hope for a better world.

SubQuestion No : 9

Q.9 What aspect of Mahatma Gandhi's life does the passage focus on at the beginning?

- Ans
- 1. His impact on the world
 - 2. His use of passive resistance
 - 3. His commitment to simplicity
 - 4. His role in India's freedom struggle

Question ID : 630680391844

Option 1 ID : 6306801527756

Option 2 ID : 6306801527755

Option 3 ID : 6306801527757

Option 4 ID : 6306801527754

Status : Answered

Chosen Option : 4

Comprehension:

Read the passage carefully and choose the best answer to each question out of the four alternatives:

Mahatma Gandhi, an iconic figure in India's history, was a visionary leader and a staunch advocate of nonviolent civil disobedience. Born in 1869, he played a pivotal role in India's struggle for independence from British rule. His philosophy of Satyagraha, or truth force, inspired millions to join the freedom movement.

Gandhi's methods of peaceful protest and passive resistance, coupled with his unwavering commitment to justice and equality, earned him the title of "Mahatma," meaning great soul. He led various campaigns against unjust laws, including the famous Salt March in 1930, which drew global attention to India's plight.

Beyond his political pursuits, Gandhi emphasized the importance of self-reliance and simplicity, advocating for rural development and communal harmony. His legacy extends far beyond India's borders, as he remains an inspiration to civil rights leaders and social activists worldwide.

Sadly, this great soul's life was tragically cut short when he was assassinated in 1948. However, his teachings and principles continue to guide generations, reminding us of the power of peace, love, and perseverance in the face of adversity. Mahatma Gandhi's influence endures as a beacon of hope for a better world.

SubQuestion No : 10

Q.10 Which event in 1930, led by Mahatma Gandhi, drew global attention to India's fight against British colonial rule?

- Ans** 1. Dandi March (Salt March)
 2. Civil Disobedience Movement
 3. Quit India Movement
 4. Non-Cooperation Movement

Question ID : **630680391843**
Option 1 ID : **6306801527751**
Option 2 ID : **6306801527753**
Option 3 ID : **6306801527750**
Option 4 ID : **6306801527752**

Status : **Answered**

Chosen Option : **1**

Comprehension:

Read the passage carefully and choose the best answer to each question out of the four alternatives:

Mahatma Gandhi, an iconic figure in India's history, was a visionary leader and a staunch advocate of nonviolent civil disobedience. Born in 1869, he played a pivotal role in India's struggle for independence from British rule. His philosophy of Satyagraha, or truth force, inspired millions to join the freedom movement.

Gandhi's methods of peaceful protest and passive resistance, coupled with his unwavering commitment to justice and equality, earned him the title of "Mahatma," meaning great soul. He led various campaigns against unjust laws, including the famous Salt March in 1930, which drew global attention to India's plight.

Beyond his political pursuits, Gandhi emphasized the importance of self-reliance and simplicity, advocating for rural development and communal harmony. His legacy extends far beyond India's borders, as he remains an inspiration to civil rights leaders and social activists worldwide.

Sadly, this great soul's life was tragically cut short when he was assassinated in 1948. However, his teachings and principles continue to guide generations, reminding us of the power of peace, love, and perseverance in the face of adversity. Mahatma Gandhi's influence endures as a beacon of hope for a better world.

SubQuestion No : 11

Q.11 What was Mahatma Gandhi's philosophy that inspired millions to join the freedom movement in India?

- Ans 1. Satyagraha (Truth force)
 2. Dharma (Righteousness)
 3. Ahimsa (Non-violence)
 4. Swaraj (Self-rule)

Question ID : 630680391846
Option 1 ID : 6306801527763
Option 2 ID : 6306801527765
Option 3 ID : 6306801527762
Option 4 ID : 6306801527764

Status : Answered

Chosen Option : 1

**Q.12 Which word in the following sentence is the closest antonym to the bracketed word.
The book started with a captivating introduction, but its conclusion was utterly (insipid).**

- Ans 1. interesting
 2. cavil
 3. distorting
 4. confronting

Question ID : 630680391831
Option 1 ID : 6306801527706
Option 2 ID : 6306801527707
Option 3 ID : 6306801527708
Option 4 ID : 6306801527709

Status : Answered

Chosen Option : 1

Q.13 Change the following sentence from active voice to passive voice:
"The construction crew built the bridge in record time."

- Ans
- 1. The bridge was being built in record time by the construction crew.
 - 2. The bridge had been built by the construction crew in record time.
 - 3. The bridge was built by the construction crew in record time.
 - 4. The bridge has been built in record time by the construction crew.

Question ID : 630680391794
Option 1 ID : 6306801527569
Option 2 ID : 6306801527566
Option 3 ID : 6306801527567
Option 4 ID : 6306801527568
Status : Answered
Chosen Option : 3

Q.14 Fill in the blank with the appropriate conjunctions.
The weather was rainy, _____ we decided to stay indoors and watch a movie.

- Ans
- 1. or
 - 2. and
 - 3. so
 - 4. but

Question ID : 630680391782
Option 1 ID : 6306801527520
Option 2 ID : 6306801527518
Option 3 ID : 6306801527521
Option 4 ID : 6306801527519
Status : Answered
Chosen Option : 3

Q.15 Choose the correct reported speech for the following direct speech:
"I will attend the meeting tomorrow," said Tom.

- Ans
- 1. Tom said he was attending the meeting tomorrow.
 - 2. Tom said he will attend the meeting tomorrow.
 - 3. Tom said he would attend the meeting tomorrow.
 - 4. Tom said he is attending the meeting tomorrow.

Question ID : 630680391789
Option 1 ID : 6306801527549
Option 2 ID : 6306801527546
Option 3 ID : 6306801527547
Option 4 ID : 6306801527548
Status : Answered
Chosen Option : 3

Q.16 Choose the correct reported speech for the following direct speech:
"I have been studying for the exam," she said.

- Ans 1. She said she that had been studying for the exam.
 2. She said that she will be studying for the exam.
 3. She said that she has been studying for the exam.
 4. She said that she is studying for the exam.

Question ID : 630680391790
Option 1 ID : 6306801527550
Option 2 ID : 6306801527552
Option 3 ID : 6306801527551
Option 4 ID : 6306801527553
Status : Answered
Chosen Option : 3

Q.17 Fill in the blank with the appropriate verb.
The children _____ in the playground when it suddenly started raining.

- Ans 1. playing
 2. play
 3. played
 4. were playing

Question ID : 630680391788
Option 1 ID : 6306801527543
Option 2 ID : 6306801527542
Option 3 ID : 6306801527544
Option 4 ID : 6306801527545
Status : Answered
Chosen Option : 4

Q.18 Choose the correct one-word substitution for the following phrase:
"A person who loves and is strongly attracted to the beauty of nature."

- Ans 1. Naturalist
 2. Aesthete
 3. Philanthropist
 4. Misogynist

Question ID : 630680391813
Option 1 ID : 6306801527634
Option 2 ID : 6306801527635
Option 3 ID : 6306801527636
Option 4 ID : 6306801527637
Status : Answered
Chosen Option : 1

Q.19 Select the idiom segment that substitutes the bracketed segment correctly and completes the sentence meaningfully:
John was feeling very nervous before his job interview, but he [buckled down] and confidently walked into the room.

- Ans
- 1. kicked the bucket
 - 2. bit the bullet
 - 3. broke the ice
 - 4. let the cat out of the bag

Question ID : 630680391821
Option 1 ID : 6306801527667
Option 2 ID : 6306801527666
Option 3 ID : 6306801527668
Option 4 ID : 6306801527669
Status : Answered
Chosen Option : 4

Q.20 Which word in the following sentence is the closest antonym to the bracketed word.
His (extravagant) spending habits often lead to financial difficulties.

- Ans
- 1. brief
 - 2. terse
 - 3. thrifty
 - 4. verbose

Question ID : 630680392584
Option 1 ID : 6306801530684
Option 2 ID : 6306801530685
Option 3 ID : 6306801530682
Option 4 ID : 6306801530683
Status : Answered
Chosen Option : 2

Q.21 Choose the word segment that substitutes the bracketed segment correctly and completes the sentence meaningfully.
The new employee showed [remarkable and exceptional] skills during the project.

- Ans
- 1. mediocre and unremarkable
 - 2. basic and adequate
 - 3. noteworthy and unrivalled
 - 4. ordinary and unimpressive

Question ID : 630680391814
Option 1 ID : 6306801527639
Option 2 ID : 6306801527640
Option 3 ID : 6306801527641
Option 4 ID : 6306801527638
Status : Answered
Chosen Option : 2

Q.22 Select the word that is similar in meaning (SYNONYM) to the word given below.
specious

- Ans 1. effusive
 2. deceptive
 3. valid
 4. genuine

Question ID : 630680391830
Option 1 ID : 6306801527705
Option 2 ID : 6306801527702
Option 3 ID : 6306801527703
Option 4 ID : 6306801527704
Status : Answered
Chosen Option : 2

Q.23 The question below consist of a set of labelled sentences. Out of four options given, select the most logical order of the sentences which form a paragraph.
The name Troy refers both to a place in legend and a real-life archaeological site.
P. In legend, Troy is a city that was besieged for 10 years and eventually conquered by a Greek army led by King Agamemnon.
Q. The reason for this "Trojan War" was, according to Homer's "Iliad," the abduction of Helen, a queen from Sparta.
R. This abduction was done by Paris, the son of Troy's King Priam.
S. Throughout the "Iliad" the gods constantly intervene in support of characters on both sides of the conflict.
The Trojan War is thought to have taken place near the end of the Bronze Age.

- Ans 1. PQRS
 2. SRQP
 3. RQPS
 4. SPQR

Question ID : 630680391809
Option 1 ID : 6306801527619
Option 2 ID : 6306801527618
Option 3 ID : 6306801527620
Option 4 ID : 6306801527621
Status : Answered
Chosen Option : 4

Q.24 Select the idiom segment that substitutes the bracketed segment correctly and completes the sentence meaningfully:
After studying all night, Jane [hit the books] and aced her exam.

- Ans 1. burned the midnight oil
 2. kicked the bucket
 3. turned over a new leaf
 4. let the cat out of the bag

Question ID : 630680391822
Option 1 ID : 6306801527672
Option 2 ID : 6306801527671
Option 3 ID : 6306801527670
Option 4 ID : 6306801527673
Status : Answered
Chosen Option : 3

Q.25 The sentence below has been divided into three parts. Select the part of the sentence that has an error. If the sentence has no error, select the option 'No Error'.
She not only placed herself in the/ position of telling lies, but endangered/ the lives of children for personal gain.

- Ans
- 1. She not only placed herself in the
 - 2. the lives of children for personal gain.
 - 3. position of telling lies, but endangered
 - 4. No Error

Question ID : 630680391840
Option 1 ID : 6306801527742
Option 2 ID : 6306801527744
Option 3 ID : 6306801527743
Option 4 ID : 6306801527745
Status : Answered
Chosen Option : 3

Q.26 The sentence below has been divided into three parts. Select the part of the sentence that has an error. If the sentence has no error, select the option 'No Error'.
Immediately, almost as if it were a reflex Bastian/ dropped to one knee head bowed as sign of/ respect for the future king of Geneva.

- Ans
- 1. respect for the future king of Geneva.
 - 2. Immediately, almost as if it were a reflex Bastian
 - 3. No Error
 - 4. dropped to one knee head bowed as sign of

Question ID : 630680391837
Option 1 ID : 6306801527732
Option 2 ID : 6306801527730
Option 3 ID : 6306801527733
Option 4 ID : 6306801527731
Status : Answered
Chosen Option : 2

Q.27 Select the idiom segment that substitutes the bracketed segment correctly and completes the sentence meaningfully:
After facing several setbacks, the team [pulled out all the stops] and worked tirelessly to complete the project on time.

- Ans
- 1. went the extra mile
 - 2. cut the metal
 - 3. spilled the beans
 - 4. took the bull by the horns

Question ID : 630680391826
Option 1 ID : 6306801527688
Option 2 ID : 6306801527687
Option 3 ID : 6306801527686
Option 4 ID : 6306801527689
Status : Answered
Chosen Option : 4

Q.28 Change the following sentence from passive voice to active voice:
"The new highway was constructed by the government to reduce traffic congestion."

- Ans 1. The government constructed the new highway to reduce traffic congestion.
 2. The government has constructed the new highway to reduce traffic congestion.
 3. The new highway is being constructed by the government to reduce traffic congestion.
 4. The government will construct the new highway to reduce traffic congestion.

Question ID : 630680391793
Option 1 ID : 6306801527562
Option 2 ID : 6306801527564
Option 3 ID : 6306801527563
Option 4 ID : 6306801527565
Status : Answered
Chosen Option : 2

Q.29 Fill in the blank with the appropriate adverb:
The detective examined the crime scene _____, searching for any potential clues.

- Ans 1. thorough
 2. thoroughness
 3. thoroughly
 4. thourousive

Question ID : 630680391781
Option 1 ID : 6306801527514
Option 2 ID : 6306801527516
Option 3 ID : 6306801527515
Option 4 ID : 6306801527517
Status : Answered
Chosen Option : 3

Q.30 The sentence below has been divided into three parts. Select the part of the sentence that has an error. If the sentence has no error, select the option 'No Error'.
But although the waters may have receded,/ the aftermath of one of the world's biggest/ natural disaster had only just begun.

- Ans 1. No Error
 2. the aftermath of one of the world's biggest
 3. But although the waters may have receded,
 4. natural disaster had only just begun.

Question ID : 630680391833
Option 1 ID : 6306801527717
Option 2 ID : 6306801527715
Option 3 ID : 6306801527714
Option 4 ID : 6306801527716
Status : Answered
Chosen Option : 3

Q.31 Fill in the blank with the appropriate conjunction.
The concert tickets were expensive, _____ my friends and I decided to save up for them.

- Ans
- 1. while
 - 2. therefore
 - 3. and
 - 4. so

Question ID : 630680391787
Option 1 ID : 6306801527539
Option 2 ID : 6306801527541
Option 3 ID : 6306801527538
Option 4 ID : 6306801527540
Status : Answered
Chosen Option : 4

Q.32 Choose the correct one-word substitution for the following phrase:
"A person who walks on foot."

- Ans
- 1. Pedestrian
 - 2. Aquatic
 - 3. Aeronaut
 - 4. Equestrian

Question ID : 630680391807
Option 1 ID : 6306801527610
Option 2 ID : 6306801527612
Option 3 ID : 6306801527613
Option 4 ID : 6306801527611
Status : Answered
Chosen Option : 1

Q.33 Fill in the blank with the correct idiom.
Tom was feeling under the weather, so he decided to _____ and get some rest.

- Ans
- 1. let the cat out of the bag
 - 2. hit the hay
 - 3. bite the bullet
 - 4. cut corners

Question ID : 630680391819
Option 1 ID : 6306801527660
Option 2 ID : 6306801527659
Option 3 ID : 6306801527658
Option 4 ID : 6306801527661
Status : Answered
Chosen Option : 2

Q.34 The question below consist of a set of labelled sentences. Out of four options given, select the most logical order of the sentences which form a paragraph.
According to myths and stories composed long after the Iliad, Thetis was extraordinarily concerned about her baby son's mortality.
P. She burned him over a fire every night, then dressed his wounds with ambrosial ointment.
Q. She did everything she could to make him immortal.
R. She dunked him into the River Styx, whose waters were said to confer the invulnerability of the gods.
S. However, she gripped him tightly by the foot as she dipped him into the river—so tightly that the water never touched his heel.
As a result, Achilles was invulnerable everywhere but there.

- Ans 1. RPQS
 2. PSQR
 3. QPRS
 4. QSPR

Question ID : 630680391815
Option 1 ID : 6306801527645
Option 2 ID : 6306801527642
Option 3 ID : 6306801527643
Option 4 ID : 6306801527644
Status : Answered
Chosen Option : 3

Q.35 Select the word segment that substitutes the bracketed segment correctly and completes the sentence meaningfully.
The young artist's abstract painting was [captivating and mysterious], leaving the viewers in awe.

- Ans 1. amusing and entertaining
 2. intriguing and enigmatic
 3. dull and uninspired
 4. colourful and vibrant

Question ID : 630680391808
Option 1 ID : 6306801527617
Option 2 ID : 6306801527616
Option 3 ID : 6306801527615
Option 4 ID : 6306801527614
Status : Answered
Chosen Option : 1

Section : Theoretical knowledge of Computer

Q.1 माइक्रोसॉफ्ट एक्सेल में _____ चार्ट डेटा को एक वृत्त में स्लाइस के रूप में व्यवस्थित करता है।

- Ans 1. पाई
 2. राडार
 3. रेखा
 4. स्टैक कॉलम

Question ID : 630680392557
Option 1 ID : 6306801530575
Option 2 ID : 6306801530576
Option 3 ID : 6306801530574
Option 4 ID : 6306801530577
Status : Answered
Chosen Option : 4

Q.2 Which among the following is a component of Linux Operating System?

- Ans 1. Piston
 2. Gateway
 3. Kernel
 4. Win32 GUI

Question ID : 630680392568
Option 1 ID : 6306801530620
Option 2 ID : 6306801530618
Option 3 ID : 6306801530621
Option 4 ID : 6306801530619
Status : Answered
Chosen Option : 3

Q.3 निम्नलिखित में से किसने वर्ष 1848 में दुनिया का पहला संगणक प्रोग्राम लिखा था?

- Ans 1. एलन ट्यूरिंग
 2. एडा लवलेस
 3. चार्ल्स बैबेज
 4. एलोन मस्क

Question ID : 630680392567
Option 1 ID : 6306801530617
Option 2 ID : 6306801530615
Option 3 ID : 6306801530616
Option 4 ID : 6306801530614
Status : Answered
Chosen Option : 2

Q.4 Which among the following is a good example of use of IT(Information technology) in governance?

- Ans 1. Online tax filing
 2. Cracking furnaces
 3. Solar heaters
 4. Compostable Bags

Question ID : 630680392564
Option 1 ID : 6306801530602
Option 2 ID : 6306801530605
Option 3 ID : 6306801530603
Option 4 ID : 6306801530604
Status : Answered
Chosen Option : 1

Q.5 माइक्रोसॉफ्ट विंडोज़ (ऑपरेटिंग सिस्टम) में रन डायलॉग खोलने के लिए किस शॉर्टकट की का उपयोग किया जाता है?

- Ans 1. विंडोज़ की + R
 2. विंडोज़ की + T
 3. विंडोज़ की + X
 4. Ctrl + विंडोज़ की +B

Question ID : 630680392570
Option 1 ID : 6306801530628
Option 2 ID : 6306801530626
Option 3 ID : 6306801530629
Option 4 ID : 6306801530627
Status : Answered
Chosen Option : 1

Q.6 मायरा अपने टेक्स्ट को पैराग्राफ के दोनों तरफ सीधे एज देना चाहती है। उसे माइक्रोसॉफ्ट वर्ड में किस प्रकार का संरेखण चुनना चाहिए?

- Ans 1. जस्टिफाई
 2. बायें
 3. केंद्र
 4. दायें

Question ID : 630680392562
Option 1 ID : 6306801530597
Option 2 ID : 6306801530594
Option 3 ID : 6306801530596
Option 4 ID : 6306801530595
Status : Answered
Chosen Option : 1

Q.7 What is the default page size for a Microsoft Word document?

- Ans 1. Tabloid size
 2. A4 size
 3. Letter size
 4. Executive size

Question ID : 630680392560
Option 1 ID : 6306801530589
Option 2 ID : 6306801530587
Option 3 ID : 6306801530586
Option 4 ID : 6306801530588
Status : Answered
Chosen Option : 3

Q.8 _____ can be used to enter same data into several cells in Microsoft Excel automatically and at the same time.

- Ans
- 1. Ctrl + Shift + #
 - 2. Fill handle
 - 3. Ctrl + A
 - 4. Help tab

Question ID : 630680392559
Option 1 ID : 6306801530582
Option 2 ID : 6306801530585
Option 3 ID : 6306801530584
Option 4 ID : 6306801530583
Status : Answered
Chosen Option : 2

Q.9 In which tab on Microsoft PowerPoint dashboard, can we choose page orientation for our PowerPoint template?

- Ans
- 1. Insert
 - 2. Design
 - 3. File
 - 4. Help

Question ID : 630680392552
Option 1 ID : 6306801530554
Option 2 ID : 6306801530555
Option 3 ID : 6306801530556
Option 4 ID : 6306801530557
Status : Answered
Chosen Option : 1

Q.10 In which of the slide views of Microsoft PowerPoint are miniature slides are arranged on the screen?

- Ans
- 1. Outline view
 - 2. Slide Show view
 - 3. Normal view
 - 4. Slide Sorter view

Question ID : 630680392554
Option 1 ID : 6306801530564
Option 2 ID : 6306801530563
Option 3 ID : 6306801530562
Option 4 ID : 6306801530565
Status : Answered
Chosen Option : 2