

ITBP Head Constable Combatant Ministerial 26 Nov 2017 Official Paper

1. The largest 4 digit number exactly divisible by 88 is:  
 (A) 9944 (B) 9768  
 (C) 9988 (D) 8888
2.  $8597 - ? = 7429 - 4358$   
 (A) 5426 (B) 5706  
 (C) 5526 (D) 5476
3. By selling a bicycle for Rs. 2,850, a shopkeeper gains 14%. If the profit is reduced to 8%, then the selling price will be:  
 (A) Rs. 2,600 (B) Rs. 2,700  
 (C) Rs. 2,800 (D) Rs. 3000
4. A sells an article to B at a profit of 10% B sells the article back to A at a loss of 10%. In this transaction:  
 (A) A neither losses nor gains  
 (B) A makes a profit of 11%  
 (C) A makes a profit of 20%  
 (D) B loses 20%
5. A man is 24 years older than his son. In two years, his age will be twice the age of his son. What is the present age of his son?  
 (A) 23 years (B) 22 years  
 (C) 21 years (D) 20 years
6. The sum of ages of 5 children born at the intervals of 3 years each is 50 years. What is the age of the youngest child?  
 (A) 4 years (B) 8 years  
 (C) 10 years (D) None of these
7. A father said to his son, "I was as old as you are at the present at the time of your birth". If the father's age is 38 years now, the son's age five years back was:  
 (A) 14 years (B) 19 years  
 (C) 33 years (D) 38 years
8. Half percent, written as a decimal, is  
 (A) 0.2 (B) 0.02  
 (C) 0.005 (D) 0.05

1. 88 द्वारा विभाजित 4 अंकों की सबसे बड़ी संख्या है  
 (A) 9944 (B) 9768  
 (C) 9988 (D) 8888
2.  $8597 - ? = 7429 - 4358$   
 (A) 5426 (B) 5706  
 (C) 5526 (D) 5476
3. एक साइकिल को 2850 रु० में बेचने पर एक दुकानदार 14% मुनाफा कमाता है यदि मुनाफे की दर 8% कर दी जाये तो बिक्री मूल्य होगा  
 (A) रु० 2,600 (B) रु० 2,700  
 (C) रु० 2,800 (D) रु० 3,000
4. A एक वस्तु B को 10% मुनाफे पर बेचता है। उसी वस्तु को B 10% के नुकसान पर A को बेचता है। इस लेन देन में  
 (A) A को न नुकसान न लाभ हुआ  
 (B) A को 11% का लाभ हुआ  
 (C) A को 20% का लाभ हुआ  
 (D) B को 20% का नुकसान हुआ
5. एक व्यक्ति अपने पुत्र से 24 वर्ष बड़ा है। दो वर्ष उपरान्त उसकी आयु अपने पुत्र की आयु की उपेक्षा दो गुनी होगी। पुत्र की वर्तमान आयु है?  
 (A) 23 वर्ष (B) 22 वर्ष  
 (C) 21 वर्ष (D) 20 वर्ष
6. 3 वर्ष के अन्तर से पैदा हुये 5 बच्चों की उम्र का जोड़ 50 वर्ष है, तो सबसे छोटे बच्चे की उम्र क्या है?  
 (A) 4 वर्ष (B) 8 वर्ष  
 (C) 10 वर्ष (D) इनमें से कोई नहीं
7. एक पिता ने अपने पुत्र से कहा- "तुम्हारे जन्म के समय मेरी आयु तुम्हारी वर्तमान आयु के बराबर थी।" यदि वर्तमान में पिता की आयु 38 वर्ष है तो 5 वर्ष पूर्व पुत्र की आयु थी:  
 (A) 14 वर्ष (B) 19 वर्ष  
 (C) 33 वर्ष (D) 38 वर्ष
8. आधा प्रतिशत, दशमलव ईकाई में किस प्रकार लिखा जायेगा।  
 (A) 0.2 (B) 0.02  
 (C) 0.005 (D) 0.05

9. The population of a town increases every year by 4%. If its present population is 50,000, then after 2 years it will be

- (A) 53,900 (B) 54,000  
(C) 54,900 (D) 54,080

10. A monkey climbs a 60 m high pole. In first minute he climbs 6 m and slips down 3 m in the next minute. How much time is required by it to reach the top?

- (A) 35 minutes (B) 37 minutes  
(C) 33 minutes (D) 40 minutes

11. Mohan is older than Prabir. Suresh is younger than Prabir. Mihir is older than Suresh, but younger than Prabir. Who among the four is youngest?

- (A) Prabir (B) Mihir  
(C) Mohan (D) Suresh

12. Mohan was facing east. he walked 4 km forward and then after turning to his right walked 3 km. Again he turned to his right and walked 4 km. After this he turned back. Which direction was he facing at that time?

- (A) East (B) West  
(C) North (D) South

13. A cyclist goes 30 km to North and then turning to East he goes 40 km. Again he turns to his right and goes 20 km. After this he turns to his right and goes 40 km. How far is from his starting point?

- (A) 40 (B) 50  
(C) 25 (D) 10

14. Pointing at a photo, Dinesh said, "His father is only son of my mother." The photo belongs to:

- (A) Dinesh (B) Dinesh's brother  
(C) Dinesh's father (D) Dinesh's son

15. Which word does NOT belong with the others?

- (A) Inch (B) Ounce  
(C) Centimeter (D) Yard

9. एक शहर की जनसंख्या प्रतिवर्ष 4% के अनुपात से बढ़ती है। यदि वर्तमान जनसंख्या 50,000 तो 2 वर्ष बाद क्या होगी।

- (A) 53,900 (B) 54,000  
(C) 54,900 (D) 54,080

10. एक बन्दर 60 मीटर ऊँचे खम्भे पर चढ़ता है। पहले मिनट में वह 6 मीटर ऊपर चढ़ता है और दूसरे मिनट में वह 3 मीटर नीचे फिसलता है। खम्भे के ऊपर चढ़ने में कुल कितना समय लगेगा।

- (A) 35 मिनट (B) 37 मिनट  
(C) 33 मिनट (D) 40 मिनट

11. मोहन प्रवीर से बड़ा है। सुरेश प्रवीर से छोटा है। मिहिर सुरेश से बड़ा है लेकिन प्रवीर से छोटा है चारों में कौन सबसे छोटा है?

- (A) प्रवीर (B) मिहिर  
(C) मोहन (D) सुरेश

12. मोहन का चेहरा पूर्व दिशा की ओर था। वह आगे की तरफ 4 किमी चलता है और उसके बाद अपने दांयी ओर मुड़ता है और 3 किमी चलता है। वह दुबारा अपने दांयी ओर मुड़ता है और 4 किमी चलता है। इसके बाद वह वापस मुड़ता है। अब उसका चेहरा किस दिशा की ओर था?

- (A) पूर्व (B) पश्चिम  
(C) उत्तर (D) दक्षिण

13. एक साइकिलिस्ट उत्तर दिशा में 30 किमी जाता है फिर पूर्व दिशा में मुड़कर 40 किमी जाता है। फिर वो अपनी दाईं ओर मुड़ता है और 20 किमी जाता है तत्पश्चात दाईं ओर मुड़कर 40 किमी चलता है। वह अपने शुरुवाती बिन्दु से कितना दूर है

- (A) 40 (B) 50  
(C) 25 (D) 10

14. एक फोटो की तरफ इशारा करते हुए दिनेश ने कहा, "इसके पिता मेरी माँ के एकमात्र पुत्र है"। वह फोटो किसकी है

- (A) दिनेश की (B) दिनेश के भाई की  
(C) दिनेश के पिता की (D) दिनेश का पुत्र

15. कौन-सा शब्द दूसरे शब्दों से सम्बंधित नहीं है

- (A) इंच (B) औंस  
(C) सेंटीमीटर (D) यार्ड

16. Look at this series: 11, 33, 55, 77,.... What number should come next?

- (A) 99 (B) 88  
(C) 121 (D) 101

17. Look at this series: 7, 10, 8, 11, 9, 12, ... What number should come next?

- (A) 7 (B) 10  
(C) 12 (D) 13

18. In a certain code FIRE is coded as DGPC. What will be the last letter of the coded word for SHOT?

- (A) Q (B) R  
(C) S (D) P

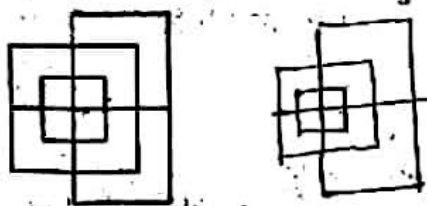
19. If TOUR is written in a certain code as 1234, CLEAR as 56784 and SPARE as 90847, what will be the 5th digit for SCULPTURE in the same code ?

- (A) 3 (B) 4  
(C) 6 (D) 0

20. If in a certain language SISTER is coded as 535301, UNCLE is coded as 84670 and BOY as 129, how son is coded ?

- (A) 923 (B) 524  
(C) 342 (D) 872

21. Find the minimum number of straight lines required to make the given figure.



- (A) 13 (B) 15  
(C) 17 (D) 19

16. इस श्रृंखला को देखें 11, 33, 55, 77,..... आगे कौन सी संख्या आनी चाहिए?

- (A) 99 (B) 88  
(C) 121 (D) 101

17. इस श्रृंखला को देखें 7, 10, 8, 11, 9, 12,..... आगे कौन सी संख्या आनी चाहिए?

- (A) 7 (B) 10  
(C) 12 (D) 13

18. एक निश्चित कोड में FIRE को DGPC के रूप में कोडित किया गया है। SHOT के लिए कोडित शब्द का अंतिम अक्षर क्या होगा?

- (A) Q (B) R  
(C) S (D) P

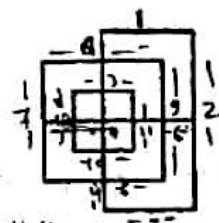
19. यदि TOUR को 1234, CLEAR को 56784 तथा SPARE को 90847 के रूप में लिखा जाता है तो SCULPTURE की पांचवें अक्षर का कोड क्या होगा।

- (A) 3 (B) 4  
(C) 6 (D) 0

20. यदि एक निश्चित भाषा में SISTER को 535301, UNCLE को 84670 तथा BOY को 129 के रूप में कूट रचित किया जाता है, तो SON को कैसे लिखा जायेगा?

- (A) 923 (B) 524  
(C) 342 (D) 872

21. दी गई आकृति बनाने के लिए कम से कम कितनी सीधी रेखाओं की आवश्यकता पड़ेगी।



- (A) 13 (B) 15  
(C) 17 (D) 19

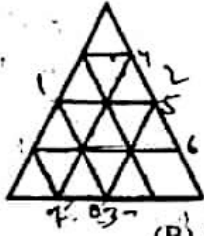
A B C D E  
F G H I J  
K L M N O

$$122.5\% = 392$$

$$100\% = \frac{392 \times 100}{122.5}$$

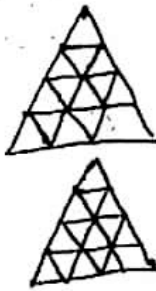
$$\frac{392}{72}$$

22. Find the minimum number of straight lines required to make the given figure.

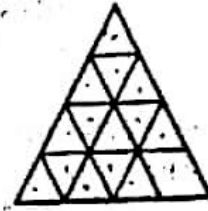


- (A) 9  
(C) 16

- (B) 11  
(D) 15



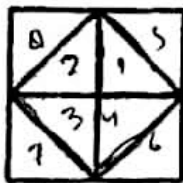
22. दी गई आकृति बनाने के लिए कम से कम कितनी सीधी रेखाओं की आवश्यकता पड़ेगी।



- (A) 9  
(C) 16

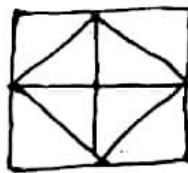
- (B) 11  
(D) 15

23. Find the number of triangles in the given figure.

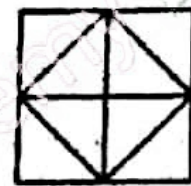


- (A) 8  
(C) 12

- (B) 10  
(D) 14



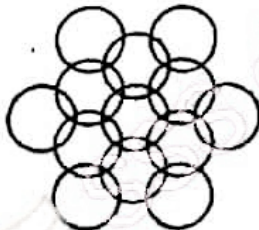
23. दी गई आकृति में कितने त्रिभुज हैं



- (A) 8  
(C) 12

- (B) 10  
(D) 14

24. How many circles are there in the adjoining figure

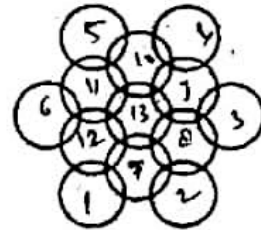


- (A) 11  
(C) 13

- (B) 12  
(D) 14

$$\frac{65 + 67 + 76 + 82 + 85}{5} = 75$$

24. दी गई आकृति में कितने वृत्त हैं



- (A) 11  
(C) 13

- (B) 12  
(D) 14

25. Look at this series: 4, 6, 9, 13, .... What number should come next?

- (A) 15  
(C) 18

- (B) 12  
(D) 17

25. इस श्रृंखला को देखें 4, 6, 9, 13, ..... आगे कौन सी संख्या आनी चाहिए?

- (A) 15  
(C) 18

- (B) 12  
(D) 17

26. Reeya obtained 65, 67, 76, 82 and 85 out of 100 in different subjects, What will be the average.

- (A) 70  
(C) 80

- (B) 75  
(D) 85

26. रिया ने विभिन्न विषयों में 100 में से 65, 67, 76, 82 तथा 85 अंक प्राप्त किये। औसत क्या होगा

- (A) 70  
(C) 80

- (B) 75  
(D) 85

27. A shopkeeper expects a gain of 22.5% on his cost price. If in a week, his sale was of Rs. 392, what was his profit?

- (A) Rs. 18.20  
(C) Rs. 72

- (B) Rs. 70  
(D) Rs. 88.20

$$\frac{392}{1.225} = 320$$

$$392 - 320 = 72$$

27. एक दुकानदार कीमत पर 22.5% का मुनाफे की आकांक्षा रखता है। यदि एक हफ्ते में उसकी कुल बिक्री 392 ₹ है, तो मुनाफा है?

- (A) 18.20 ₹  
(C) 72 ₹

- (B) 70 ₹  
(D) 88.20 ₹

28. Reena took a loan of Rs. 1200 with simple interest for as many years as the rate of interest. If she paid Rs. 432 as interest at the end of the loan period, what was the rate of interest?

- (A) 3.6 (B) 6  
(C) 18 (D) None of these

28. रीना ने साधारण ब्याज पर 1200 रु० का ऋण, ब्याज दर के समान वर्षों के लिए लिया। यदि उसने 432 रु० ब्याज के रूप में अंत में चुकाये तो ब्याज दर क्या होगी?

- (A) 3.6 (B) 6  
(C) 18 (D) इनमें से कोई नहीं

29. A fruit seller had some apples. He sells 40% apples and still has 420 apples. Originally, he had

- (A) 588 apples (B) 600 apples  
(C) 672 apples (D) 700 apples

29. एक फल विक्रेता के पास कुछ सेब थे। 40% सेब बेचने के बाद उसके पास 420 सेब बचे। उसके पास कुल कितने सेब थे।

- (A) 588 सेब (B) 600 सेब  
(C) 672 सेब (D) 700 सेब

$$40\% = 420 \text{ सेब}$$

$$100 = \frac{420 \times 100}{40}$$

$$= \frac{42000}{40}$$

$$= 1050$$

30. In the first 10 overs of a cricket game, the run rate was only 3.2. What should be the run rate in the remaining 40 overs to reach the target of 282 runs?

- (A) 6.25 (B) 6.5  
(C) 6.75 (D) 7

30. क्रिकेट मैच के प्रथम 10 ओवर में रन रेट का औसत 3.2 था। 282 रन का लक्ष्य शेष 40 ओवर में प्राप्त करने के लिए रन रेट का औसत होगा।

- (A) 6.25 (B) 6.5  
(C) 6.75 (D) 7

$$30 \times 3.2 = 96$$

$$282 - 96 = 186$$

$$\frac{186}{40} = 4.65$$

$$4.65 + 3.2 = 7.85$$

31. 7, Lok Kalyan Marg, New Delhi is the residential complex of which of these public servants?

- (A) President of India  
(B) Chief Minister of Delhi  
(C) Prime Minister of India  
(D) Vice - President of India

31. 7, लोक कल्याण मार्ग, नई दिल्ली इनमें से किसका आवासीय परिसर है?

- (A) भारत के राष्ट्रपति  
(B) दिल्ली के मुख्यमंत्री  
(C) भारत के प्रधानमंत्री ✓  
(D) भारत के उप-राष्ट्रपति

$$60\% = 48000$$

$$100 = \frac{48000 \times 100}{60}$$

$$= 80000$$

$$4 \overline{) 25} \begin{matrix} 6 \\ 24 \\ 18 \\ 20 \end{matrix}$$

32. Which state is known as India's Spice Garden...?

- (A) Kerala (B) Karnataka  
(C) Bihar (D) Uttaranchal

32. इनमें से कौन सा राज्य भारत के स्पाइस गार्डन के रूप में जाना जाता है?

- (A) केरल ✓ (B) कर्नाटक  
(C) बिहार (D) उत्तरांचल

33. Who wrote the 'Geet Gobindom'?

- (A) Dijenralal Sarkar (B) Ballal Sen  
(C) Jaiide (D) Dhoyi

33. 'गीत गोबिंदम' किसने लिखा है?

- (A) दिजेन्द्रलाल सरकार (B) बलाल सेन  
(C) जयदेव (D) घोई

34. The words 'Satyameva Jayate' inscribed below the base plate of the emblem of India are taken from

- (A) Rigveda (B) Satpath Brahmana  
(C) Mundak Upanishad (D) Ramayana

34. भारत के राष्ट्रीय प्रतीक के आधार पर लिखा शब्द 'सत्यमेव जयते' कहाँ से लिया गया है?

- (A) ऋग्वेद (B) शतपथ ब्राह्मण  
(C) मुंडक उपनिषद (D) रामायण

35. The slogan 'One Nation', 'One Tax', 'One Market' was used for the promotion of which tax scheme by the central govt?

- (A) GST (B) DDT  
(C) STT (D) CST

35. नारा 'एक राष्ट्र', 'एक कर', 'एक बाजार' केन्द्र सरकार की कौन सी कर प्रणाली योजना को बढ़ावा देने के लिए किया गया था?

- (A) जीएसटी (B) डीडीटी  
(C) एसटीटी (D) सीएसटी

$$SI = \frac{Prt}{100}$$

$$432 = \frac{1200 \times R \times t}{100}$$

(क)

-7-

$$432 = \frac{1200 \times R \times t}{100}$$

$$\frac{36}{2} = R$$

36. The 'Char Minar' is in  
 (A) Ahmedabad (B) Hyderabad  
 (C) Delhi (D) Sikri
37. Kandla Port Trust, situated on the Gulf of Kachh has been renamed as  
 (A) Deendayal Port Trust  
 (B) Pd. Jawaharlal Nehru Port Trust  
 (C) Indira Port Trust  
 (D) Rajiv Gandhi Port Trust
38. Which of the following is used in pencils?  
 (A) Graphite (B) Silicon  
 (C) Charcoal (D) Phosphorous
39. Who was the first Indian to go into space?  
 (A) Ravi Malhotra (B) Satish Dawan  
 (C) Kalpana Chawla (D) Rakesh Sharma
40. Who was known as Iron man of India?  
 (A) Govind Ballabh Pant  
 (B) Jawaharlal Nehru  
 (C) Sardar Vallabh bhai Patel  
 (D) Subhash Chandra Bose
41. Which of these organs is a part of the human digestive system?  
 (A) Pancreas (B) Thymus  
 (C) Pituitary gland (D) Cerebrum
42. 7th April, 1948, the day the constitution of WHO came into force, is celebrated by what name?  
 (A) World Cancer Day  
 (B) World No Tobacco Day  
 (C) World AIDS Day  
 (D) World Health Day
43. Which of these states does not come under the jurisdiction of the Guwahati High Court?  
 (A) Mizoram (B) Nagaland  
 (C) Arunachal Pradesh (D) Meghalaya
44. Which of these leader revived and popularised public celebration of Ganesh Chaturthi in India?  
 (A) Bal Gangadhar Tilak  
 (B) Bipin Chandra Pal  
 (C) Lala Lajpat Rai  
 (D) Bhimrao Ambedkar
36. 'चार मीनार' कहाँ स्थित है  
 (A) अहमदाबाद (B) हैदराबाद  
 (C) दिल्ली (D) सीकरी
37. कच्छ की खाड़ी स्थित कांडला पोर्ट ट्रस्ट का नाम बदलकर रखा गया है  
 (A) दीनदयाल पोर्ट ट्रस्ट  
 (B) पं० जवाहरलाल नेहरू पोर्ट ट्रस्ट  
 (C) इंदिरा पोर्ट ट्रस्ट  
 (D) राजीव गांधी पोर्ट ट्रस्ट
38. इनमें से किसका पेंसिल में प्रयोग होता है?  
 (A) ग्रेफाइट (B) सिलिकॉन  
 (C) चारकोल (D) फॉस्फोरस
39. अंतरिक्ष में जाने वाले प्रथम भारतीय कौन थे?  
 (A) रवि मल्होत्रा (B) सतीश धवन  
 (C) कल्पना चावला (D) राकेश शर्मा
40. भारत के लौह पुरुष के रूप में किसे जाना जाता है?  
 (A) गोविंद बल्लभ पंत  
 (B) जवाहरलाल नेहरू  
 (C) सरदार वल्लभ भाई पटेल  
 (D) सुभाष चन्द्र बोस
41. इनमें से कौन सा अंग मानव के पाचक तंत्र का हिस्सा है?  
 (A) पैनक्रियाज (B) थाइमस  
 (C) पिट्यूटरी ग्लैंड (D) सेरेब्रम
42. 7 अप्रैल 1948, जिस दिन WHO का संविधान लागू हुआ था, उसे किस नाम से मनाया जाता है?  
 (A) विश्व कैंसर दिवस  
 (B) विश्व तम्बाकू निषेध दिवस  
 (C) विश्व एड्स दिवस  
 (D) विश्व स्वास्थ्य दिवस
43. इनमें से कौन सा राज्य गोवाहाटी उच्च न्यायालय के अधिकार क्षेत्र में नहीं आता है?  
 (A) मिज़ोरम (B) नागालैण्ड  
 (C) अरुणाचल प्रदेश (D) मेघालय
44. इनमें से कौन से नेता ने भारत में गणेश चतुर्थी के पर्व को पुर्नजीवित कर सार्वजनिक उत्सव के रूप में लोकप्रिय किया?  
 (A) बाल गंगाधर तिलक  
 (B) बिपिन चन्द्र पाल  
 (C) लाला लाजपत राय  
 (D) भीमराव अम्बेडकर

45. Which of these British automobile brands is owned by an Indian company?

- (A) Beetle (B) Land Rover  
(C) Ashton Martin (D) Rolls Royce

46. The name of which of these Indian missiles has been derived from the names of an Indian and Russian Rivers?

- (A) Heilna (B) Brahmos  
(C) Nag (D) Amogha

47. Who was heading the Indian Army during the Bangladesh Liberation War of 1971?

- (A) A.J.N. Chaudhuri  
(B) B.P.P. Kumaramangalam  
(C) C.G.G. Bewoor  
(D) D. Sam Manekshaw

48. What form of literature are Kalidasa's 'Raghuvamsha' and 'Kumarasambhava'?

- (A) Novel (B) Poetry  
(C) Drama (D) Short Story

49. On the banks of which river did Gandhiji establish his ashram in 1917, close to the place believed to be the site of Rishi Dadhichi's gurukul?

- (A) Tapti (B) Narmada  
(C) Mahi (D) Sabarmati

50. Which of these is also a term used with reference to the Internet?

- (A) Biscuits (B) Pastries  
(C) Cakes (D) Cookies

51. RTGS, NEFT and IMPS pertain to which activity?

- (A) Online Banking (B) web Surfing  
(C) Education (D) Health Care

52. Which of these parts of the human body are less than two in numbers?

- (A) Lung (B) Retina  
(C) Kidney (D) Liver

45. इनमें से कौन सा ब्रिटिश ऑटोमोबाइल ब्रांड का स्वामित्व एक भारतीय कम्पनी के पास है?

- (A) बीटल (B) लैंड रोवर  
(C) एस्टन मार्टिन (D) रॉलस रॉयस

46. किस भारतीय मिसाइल का नाम भारतीय और रूसी नदियों के नाम से लिया गया है?

- (A) हेलना (B) ब्रह्मोस  
(C) नाग (D) अमोघ

47. 1971 के बांग्लादेश मुक्ति संग्राम के दौरान भारतीय सेना का अगुवाई कौन कर रहा था?

- (A) ए. जे. एन. चौधरी  
(B) बी. पी. पी. कुमारमंगलम  
(C) सी. जी. जी. बेउर  
(D) डी. सैम मानेकशॉ

48. कालीदास द्वारा रचित 'रघुवंश तथा कुमारसम्भव' किस प्रकार के साहित्य है?

- (A) उपन्यास (B) काव्य  
(C) नाटक (D) लघु कथा

49. वर्ष 1917 में किस नदी के तट पर गांधी जी द्वारा आश्रम की स्थापना की गयी जो कि ऋषि दधिचि के गुरुकुल के पास था?

- (A) ताप्ती (B) नर्मदा  
(C) माही (D) साबरमती

50. इन्टरनेट के सन्दर्भ में इनमें से किस शब्द का प्रयोग किया जाता है?

- (A) बिस्किट (B) पेस्ट्री  
(C) केक (D) कुकीज़

51. आर.टी.जी.एस. एन.ई.एफ.टी. तथा आई.एम.पी.एस. किससे सम्बन्ध रखते हैं?

- (A) ऑनलाइन बैंकिंग (B) वेब सर्फिंग  
(C) शिक्षा (D) स्वास्थ्य सेवाएँ

52. इनमें से कौन सा अंग मानव शरीर में संख्या में दो से कम है?

- (A) फेफड़े (B) रेटिना  
(C) गुर्दा (D) लीवर

53. On which of these documents would you find MICR and IFSC codes?

- (A) Passport (B) PAN Card  
(C) Cheque Leaf (D) Aadhar Card

53. एम.आई.सी.आर. तथा आई.एफ.एस.सी. कोड इनमें से किस दस्तावेज में होते हैं?

- (A) पासपोर्ट (B) पैन कार्ड  
(C) बैंक चैक (D) आधार कार्ड

54. Golden Temple is situated in

- (A) New Delhi (B) Agra  
(C) Mumbai (D) Amritsar

54. स्वर्ण मन्दिर कहाँ स्थित है

- (A) नई दिल्ली (B) आगरा  
(C) मुम्बई (D) अमृतसर

55. Which is the autobiography of former Indian cricketer Sachin Tendulkar?

- (A) Playing It My Way  
(B) Unguarded: My Autobiography  
(C) Second Innings: My Sporting Life  
(D) Cricket As I See It

55. इनमें से कौन सी पूर्व भारतीय क्रिकेटर सचिन तेन्दुलकर की आत्मकथा है?

- (A) प्लेइंग इट मॉय वे  
(B) अनगार्डेड : मॉय ऑटोबायोग्राफी  
(C) सेकेण्ड ईनिंग्स : माई स्पोर्टिंग लाइफ  
(D) क्रिकेट एज आई सी इट

Directions: In questions no. 56 to 60, a part of the sentence is underlined. Below are given alternatives to the underlined part at (A), (B), (C) and (D) which may improve the sentence. Choose the correct alternative.

प्रश्न 56-60: हल करने के अनुदेश

नीचे दिये वाक्यों में कुछ शब्द रेखांकित है। दिये गये विकल्पों में से उचित का चुनाव करें जो वाक्य को शुद्ध कर सकें।

56. I watched him fell.

- (A) him fall (B) him to fell  
(C) him to falling (D) No improvement

56. I watched him fell.

- (A) him fall (B) him to fell  
(C) him to falling (D) No improvement

57. I do not think it would not rain.

- (A) will not rain (B) will rain  
(C) should not rain (D) should rain

57. I do not think it would not rain.

- (A) will not rain (B) will rain  
(C) should not rain (D) should rain

58. You are getting a beautiful salary.

- (A) a smart (B) a handsome  
(C) a heavy (D) No improvement

58. You are getting a beautiful salary.

- (A) a smart (B) a handsome  
(C) a heavy (D) No improvement

59. Mr. Sharma was stubborn that his son will attend coaching classes

- (A) pleased (B) amazed  
(C) determined (D) doubtful

59. Mr. Sharma was stubborn that his son will attend coaching classes

- (A) pleased (B) amazed  
(C) determined (D) doubtful

60. The one factor that governs the progress of a nation is education.

- (A) single factor (B) primary factor  
(C) one of the factors (D) No improvement

60. The one factor that governs the progress of a nation is education.

- (A) single factor (B) primary factor  
(C) one of the factors (D) No improvement



**Directions (Q.61-65):**

Rearrange the following parts (1, 2, 3 and 4) in proper sequence to obtain a correct sentence.

प्रश्न 61-65: हल करने के अनुदेश नीचे दिये गये 1,2,3 और 4 को सही क्रम में लगाएं तथा एक अर्थपूर्ण वाक्य का निर्माण करें।

61. 1. our country  
2. following greater than some  
3. Salman Khan has a fan  
4. of the best paid sports person in  
(A) 1, 3, 4, 2 (B) 3, 4, 2, 1  
(C) 4, 1, 3, 2 (D) 3, 2, 4, 1

61. 1. our country  
2. following greater than some  
3. Salman Khan has a fan  
4. of the best paid sports person in  
(A) 1, 3, 4, 2 (B) 3, 4, 2, 1  
(C) 4, 1, 3, 2 (D) 3, 2, 4, 1

62. 1. of their passions  
2. is a knowledge  
3. the knowledge  
4. of mankind  
(A) 3, 2, 4, 1 (B) 3, 4, 2, 1  
(C) 1, 3, 4, 2 (D) 4, 3, 2, 1

62. 1. of their passions  
2. is a knowledge  
3. the knowledge  
4. of mankind  
(A) 3, 2, 4, 1 (B) 3, 4, 2, 1  
(C) 1, 3, 4, 2 (D) 4, 3, 2, 1

63. 1. be, not what  
2. always be  
3. whom you want to  
4. others want to see  
(A) 1, 2, 4, 3 (B) 3, 4, 2, 1  
(C) 2, 3, 1, 4 (D) 4, 3, 1, 2

63. 1. be, not what  
2. always be  
3. whom you want to  
4. others want to see  
(A) 1, 2, 4, 3 (B) 3, 4, 2, 1  
(C) 2, 3, 1, 4 (D) 4, 3, 1, 2

64. 1. pending because it wasn't  
2. Too many cases still lie  
3. is the convict  
4. confirmed that the accused really  
(A) 2, 1, 4, 3 (B) 2, 3, 4, 1  
(C) 1, 4, 3, 2 (D) 4, 2, 1, 3

64. 1. pending because it wasn't  
2. Too many cases still lie  
3. is the convict  
4. confirmed that the accused really  
(A) 2, 1, 4, 3 (B) 2, 3, 4, 1  
(C) 1, 4, 3, 2 (D) 4, 2, 1, 3

65. 1. held on all India basis  
2. appear the UPSC examination  
3. every year many students from  
4. all over the country  
(A) 1, 2, 4, 3 (B) 3, 4, 2, 1  
(C) 2, 3, 1, 4 (D) 2, 4, 1, 3

65. 1. held on all India basis  
2. appear the UPSC examination  
3. every year many students from  
4. all over the country  
(A) 1, 2, 4, 3 (B) 3, 4, 2, 1  
(C) 2, 3, 1, 4 (D) 2, 4, 1, 3

**Directions:** In questions no. 66 to 70, sentences are given with blanks to be filled in with an appropriate words. Four alternatives are suggested for each question. Choose the correct alternative out of the four

प्रश्न 66-70: हल करने के अनुदेश नीचे दिये वाक्यों में रिक्त स्थानों को उचित दिये गये विकल्पों से भरें।

66. Prices \_\_\_\_\_ during the war .  
(A) raise (B) risen  
(C) rise (D) raising

66. Prices \_\_\_\_\_ during the war .  
(A) raise (B) risen  
(C) rise (D) raising

67. I shall go and \_\_\_\_\_ down.  
(A) lied (B) lie  
(C) lay (D) layed

67. I shall go and \_\_\_\_\_ down.  
(A) lied (B) lie  
(C) lay (D) layed

68. I told him \_\_\_\_\_ that the assignment would be impossible without more people.  
(A) repeatedly (B) repeated  
(C) repetitive (D) repeating

68. I told him \_\_\_\_\_ that the assignment would be impossible without more people.  
(A) repeatedly (B) repeated  
(C) repetitive (D) repeating

69. We \_\_\_\_\_ the picture on the wall.  
(A) hung (B) hanged  
(C) hang (D) hanging

69. We \_\_\_\_\_ the picture on the wall.  
(A) hung (B) hanged  
(C) hang (D) hanging

70. We thought the banner would look better with \_\_\_\_\_ change in colour combination.  
(A) every (B) all  
(C) each (D) some

70. We thought the banner would look better with \_\_\_\_\_ change in colour combination.  
(A) every (B) all  
(C) each (D) some

**Directions (Q.71-75):** Which of the phrases (A), (B), (C) and (D) given below each sentence should replace the phrase printed in bold in the sentence to make it grammatically correct? If the sentence is correct as it is given, mark no correction is required as answer.

प्रश्न 71-75: हल करने के अनुदेश नीचे दिये गये वाक्यांशों में से उचित का चुनाव करें जो प्रश्न में बोल्ड चिह्नित किये गये वाक्यांश के स्थान पर जाकर वाक्य के व्याकरण को सही करेंगे। यदि व्याकरण में कोई परिवर्तन नहीं है तो No correction required को चुनें।

71. We have hired an advertising agency to prepare a campaign to encourage **people votes**.  
(A) Votes by people  
(B) People to vote  
(C) Voting for people  
(D) No correction required

71. We have hired an advertising agency to prepare a campaign to encourage **people votes**.  
(A) Votes by people  
(B) People to vote  
(C) Voting for people  
(D) No correction required

72. During the training programme the new recruits will be briefed about **how their role** in the new organization.  
(A) Which are their role  
(B) For its roles  
(C) their role  
(D) No correction required

72. During the training programme the new recruits will be briefed about **how their role** in the new organization.  
(A) Which are their role  
(B) For its roles  
(C) their role  
(D) No correction required

73. The equipment is in such poor condition that we have **no alternative** to buy new ones.  
(A) many alternative like  
(B) any alternative except  
(C) no alternative but  
(D) No correction required

73. The equipment is in such poor condition that we have **no alternative** to buy new ones.  
(A) many alternative like  
(B) any alternative except  
(C) no alternative but  
(D) No correction required

74. Since the deadline has been changed from next week to this Thursday you should give this work priority.

- (A) Priority this work  
(B) Prioritised this work  
(C) Not give priority this work  
(D) No correction required

75. After the success of our project we have been receiving more requests than we do not have the resources to handle them.

- (A) Too many requests  
(B) Many requests but  
(C) Most of the requests  
(D) No correction required

Directions: In questions no. 76 to 80, out of the four alternatives, choose the word which is the exact OPPOSITE of the given words.

76. ARTIFICIAL

- (A) Red (B) Natural  
(C) Truthful (D) Solid

77. BUSY

- (A) Occupied (B) Engrossed  
(C) Relaxed (D) Engaged

78. FRESH

- (A) Faulty (B) Sluggish  
(C) Disgraceful (D) Stale

79. AWARE

- (A) Uncertain (B) Ignorant  
(C) Sure (D) Doubtful

80. COMMON

- (A) Rare (B) Small  
(C) Petty (D) Poor

Directions: In questions no. 81 to 85, out of the four alternatives, choose the one which best expresses the meaning of the given word

81. Sanction

- (A) Submission (B) Commission  
(C) Permission (D) Sacredness

74. Since the deadline has been changed from next week to this Thursday you should give this work priority.

- (A) Priority this work  
(B) Prioritised this work  
(C) Not give priority this work  
(D) No correction required

75. After the success of our project we have been receiving more requests than we do not have the resources to handle them.

- (A) Too many requests  
(B) Many requests but  
(C) Most of the requests  
(D) No correction required

प्रश्न 76-80: हल करने के अनुदेश नीचे दिये गये 4 विकल्पों में से उसका चुनाव करें जो प्रश्न में दिये गये शब्द का विपरीत अर्थ व्यक्त करे।

76. ARTIFICIAL

- (A) Red (B) Natural  
(C) Truthful (D) Solid

77. BUSY

- (A) Occupied (B) Engrossed  
(C) Relaxed (D) Engaged

78. FRESH

- (A) Faulty (B) Sluggish  
(C) Disgraceful (D) Stale

79. AWARE

- (A) Uncertain (B) Ignorant  
(C) Sure (D) Doubtful

80. COMMON

- (A) Rare (B) Small  
(C) Petty (D) Poor

प्रश्न 81-85: हल करने के अनुदेश नीचे दिये गये 4 विकल्पों में से उसका चुनाव करें जो प्रश्न में दिये गये शब्द का सबसे सही अर्थ व्यक्त करे।

81. Sanction

- (A) Submission (B) Commission  
(C) Permission (D) Sacredness

82. EMBEZZLE  
(A) Misappropriate  
(C) Remunerate

(B) Balance  
(D) Clear

83. AUGUST  
(A) Common  
(C) Dignified

(B) Ridiculous  
(D) Petty

84. WARRIOR  
(A) Soldier  
(C) Pirate

(B) Sailor  
(D) Spy

85. FAKE  
(A) Original  
(C) Trustworthy

(B) Imitation  
(D) Loyal

82. EMBEZZLE  
(A) Misappropriate  
(C) Remunerate

(B) Balance  
(D) Clear

83. AUGUST  
(A) Common  
(C) Dignified

(B) Ridiculous  
(D) Petty

84. WARRIOR  
(A) Soldier  
(C) Pirate

(B) Sailor  
(D) Spy

85. FAKE  
(A) Original  
(C) Trustworthy

(B) Imitation  
(D) Loyal

**Directions: In questions no. 86 to 90, out of the four alternatives, choose the correct word to complete the given sentence.**

प्रश्न 86-90: हल करने के अनुदेश नीचे दिये गये 4 विकल्पों में से उसका चुनाव करें जो प्रश्न में दिये गये वाक्य को पूर्ण करें।

86. More insurers are limiting the sale of property insurance in coastal areas and other regions \_\_\_\_\_ natural disasters.  
(A) safe from (B) according to  
(C) despite (D) prone to

86. More insurers are limiting the sale of property insurance in coastal areas and other regions \_\_\_\_\_ natural disasters.  
(A) safe from (B) according to  
(C) despite (D) prone to

87. This is a good ..... for a picnic  
(A) plot (B) spot  
(C) scene (D) landscape

87. This is a good ..... for a picnic  
(A) plot (B) spot  
(C) scene (D) landscape

88. The ..... of private limited companies is in the hands of its directors.  
(A) managers (B) administrators  
(C) management (D) society

88. The ..... of private limited companies is in the hands of its directors.  
(A) managers (B) administrators  
(C) management (D) society

89. Some of the luggage ..... not yet arrived  
(A) has (B) have  
(C) is (D) are

89. Some of the luggage ..... not yet arrived  
(A) has (B) have  
(C) is (D) are

90. We..... start now to work for our examination.  
(A) had better (B) better  
(C) has better (D) are better

90. We..... start now to work for our examination.  
(A) had better (B) better  
(C) has better (D) are better

91. RAM stands for...  
(A) Random Access Memory  
(B) Really Annoying Machine  
(C) Read A Manual  
(D) Real Absolute Memory

91. RAM का मतलब है?  
(A) रैण्डम एक्सेस मेमोरी  
(B) रियली एनोइंग मशीन  
(C) रीड ए मैन्युअल  
(D) रीयल एब्सल्यूट मेमोरी

92. What does SSL stand for?  
 (A) Secure Socket Layer  
 (B) System Socket Layer  
 (C) Superuser System Login  
 (D) Secure System Login
93. Which of these social networking sites has a bird as its logo?  
 (A) Snapchat (B) Tumblr  
 (C) Twitter (D) WhatsApp
94. The ..... program compresses large files into a smaller file  
 (A) WinZip (B) WinShrink  
 (C) WinStyle (D) None of above
95. Which mode loads minimal set of drivers when starting Windows?  
 (A) Safe Mode.  
 (B) Normal Mode  
 (C) VGA Mode  
 (D) Network Support Mode
96. Recently deleted files are stored in  
 (A) Taskbar (B) Desktop  
 (C) Recycle bin (D) My computer
97. 'JPG' extension refers usually to what kind of file?  
 (A) System file  
 (B) Animation/movie file  
 (C) MS Encarta document  
 (D) Image file
98. With which of the following all formulas in excel start?  
 (A) / (B) \*  
 (C) \$ (D) =
99. 'OS' computer abbreviation usually means.  
 (A) Order of Significance  
 (B) Open Software  
 (C) Operating System  
 (D) Optical Sensor
100. The ability to combine name and addresses with a standard document is called \_\_\_\_\_  
 (A) document formatting  
 (B) database management  
 (C) mail merge  
 (D) form letters
92. SSL का मतलब है?  
 (A) सिक्योर सॉकेट लेयर  
 (B) सिस्टम सॉकेट लेयर  
 (C) सुपरयूजर सिस्टम लॉगिन  
 (D) सिक्योर सिस्टम लॉगिन
93. इनमें से कौन सी सोशल नेटवर्किंग साइट का प्रतीक चिन्ह एक पक्षी है?  
 (A) स्नेपचेट (B) टम्बलर  
 (C) ट्विटर (D) व्हाट्सएप
94. इनमें से कौन सा प्रोग्राम बड़ी फाइलों को छोटी फाइल के रूप में संकुचित करता है?  
 (A) विनजिप (B) विनश्रिंक  
 (C) विनस्टाइल (D) इनमें से कोई नहीं
95. विन्डोज को शुरू करते समय ड्राइवों का न्यूनतम सेट कौन सा मोड लोड करता है?  
 (A) सेफ मोड  
 (B) नॉर्मल मोड  
 (C) वी जी ए. मोड  
 (D) नेटवर्क सपोर्ट मोड
96. हाल ही में डिलीट की गई फाइल कहाँ संग्रहित की जाती है?  
 (A) टास्कबार (B) डैस्कटॉप  
 (C) रिसाइकल बिन (D) माई कम्प्यूटर
97. 'JPG' एक्सटेंशन किस प्रकार की फाइल को दर्शाता है  
 (A) सिस्टम फाइल  
 (B) ऐनीमेशन/मूवी फाइल  
 (C) एम.एस. एनकार्टा डॉक्यूमेंट  
 (D) इमेज फाइल
98. निम्नलिखित में से किसके साथ एक्सल में सभी सूत्र प्रारम्भ होते हैं?  
 (A) / (B) \*  
 (C) \$ (D) =
99. कम्प्यूटर में किसे संक्षेप में 'OS' कहा जाता है  
 (A) ऑर्डर ऑफ सिग्नीफिकेन्स  
 (B) ओपन सॉफ्टवेयर  
 (C) ऑपरेटिंग सिस्टम  
 (D) ऑप्टिकल सेंसर
100. एक दस्तावेज में नाम तथा पत्तों को एक साथ मिलाने की प्रक्रिया कहलाती है—  
 (A) डाक्यूमेंट फॉर्मेटिंग  
 (B) डाटाबेस मैनेजमेन्ट  
 (C) मेल मर्ज  
 (D) फॉर्म लेटरर्स

## Answer Key

---

Que. 1	Correct Option - 1
Que. 2	Correct Option - 3
Que. 3	Correct Option - 2
Que. 4	Correct Option - 2
Que. 5	Correct Option - 2
Que. 6	Correct Option - 1
Que. 7	Correct Option - 1
Que. 8	Correct Option - 3
Que. 9	Correct Option - 4
Que. 10	Correct Option - 2
Que. 11	Correct Option - 3
Que. 12	Correct Option - 1
Que. 13	Correct Option - 4
Que. 14	Correct Option - 4
Que. 15	Correct Option - 2
Que. 16	Correct Option - 1
Que. 17	Correct Option - 2
Que. 18	Correct Option - 2
Que. 19	Correct Option - 4
Que. 20	Correct Option - 2
Que. 21	Correct Option - 1
Que. 22	Correct Option - 2
Que. 23	Correct Option - 3
Que. 24	Correct Option - 3

---

Que. 25	Correct Option - 3
Que. 26	Correct Option - 2
Que. 27	Correct Option - 3
Que. 28	Correct Option - 2
Que. 29	Correct Option - 4
Que. 30	Correct Option - 1
Que. 31	Correct Option - 3
Que. 32	Correct Option - 1
Que. 33	Correct Option - 3
Que. 34	Correct Option - 3
Que. 35	Correct Option - 1
Que. 36	Correct Option - 2
Que. 37	Correct Option - 1
Que. 38	Correct Option - 1
Que. 39	Correct Option - 4
Que. 40	Correct Option - 3
Que. 41	Correct Option - 1
Que. 42	Correct Option - 4
Que. 43	Correct Option - 4
Que. 44	Correct Option - 1
Que. 45	Correct Option - 2
Que. 46	Correct Option - 2
Que. 47	Correct Option - 4
Que. 48	Correct Option - 1
Que. 49	Correct Option - 4
Que. 50	Correct Option - 4

Que. 51	Correct Option - 1
Que. 52	Correct Option - 4
Que. 53	Correct Option - 3
Que. 54	Correct Option - 4
Que. 55	Correct Option - 1
Que. 56	Correct Option - 1
Que. 57	Correct Option - 2
Que. 58	Correct Option - 2
Que. 59	Correct Option - 3
Que. 60	Correct Option - 3
Que. 61	Correct Option - 4
Que. 62	Correct Option - 2
Que. 63	Correct Option - 3
Que. 64	Correct Option - 1
Que. 65	Correct Option - 2
Que. 66	Correct Option - 3
Que. 67	Correct Option - 2
Que. 68	Correct Option - 1
Que. 69	Correct Option - 1
Que. 70	Correct Option - 4
Que. 71	Correct Option - 2
Que. 72	Correct Option - 3
Que. 73	Correct Option - 3
Que. 74	Correct Option - 4
Que. 75	Correct Option - 2
Que. 76	Correct Option - 2



Que. 77	Correct Option - 3
Que. 78	Correct Option - 4
Que. 79	Correct Option - 2
Que. 80	Correct Option - 1
Que. 81	Correct Option - 3
Que. 82	Correct Option - 1
Que. 83	Correct Option - 3
Que. 84	Correct Option - 1
Que. 85	Correct Option - 2
Que. 86	Correct Option - 4
Que. 87	Correct Option - 2
Que. 88	Correct Option - 3
Que. 89	Correct Option - 1
Que. 90	Correct Option - 1
Que. 91	Correct Option - 1
Que. 92	Correct Option - 1
Que. 93	Correct Option - 3
Que. 94	Correct Option - 1
Que. 95	Correct Option - 1
Que. 96	Correct Option - 3
Que. 97	Correct Option - 4
Que. 98	Correct Option - 4
Que. 99	Correct Option - 3
Que. 100	Correct Option - 3